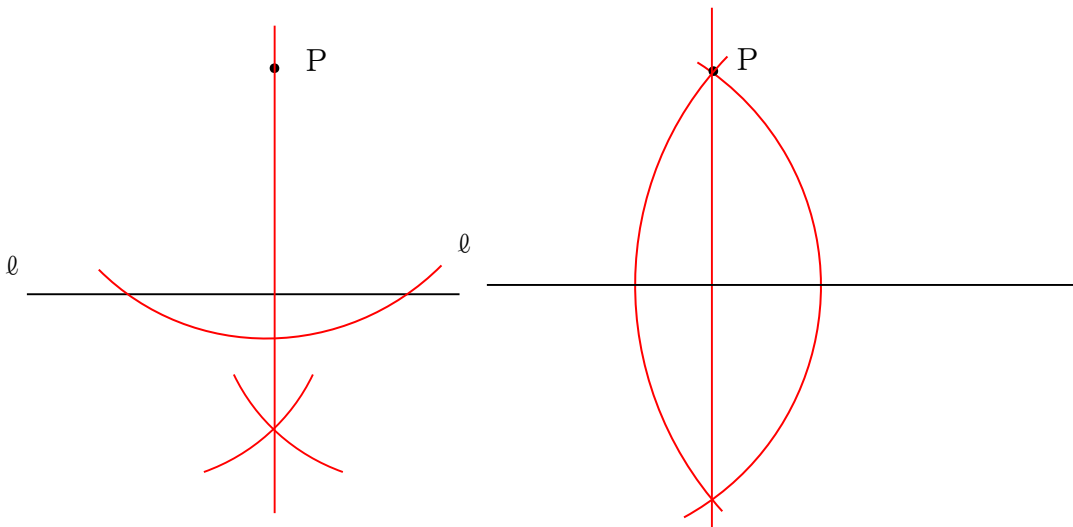


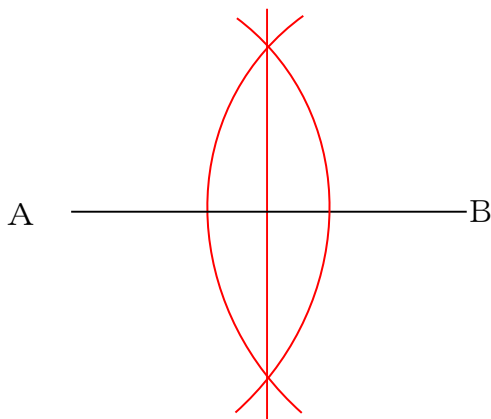
1年 13 (1)	<p>平面図形</p> <p>-基本的な作図の方法-</p>	___年 ___組
		名前

1 次の作図をしなさい。

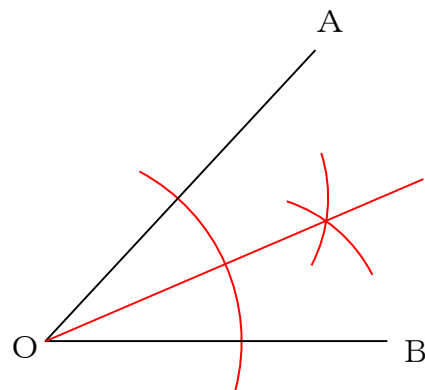
① 下の図で、点Pを通る直線 l の垂線を2通りの方法で作図しなさい。



② 下の図で、線分ABの垂直二等分線を作図しなさい。



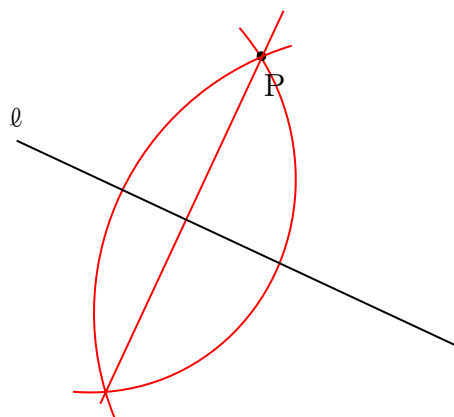
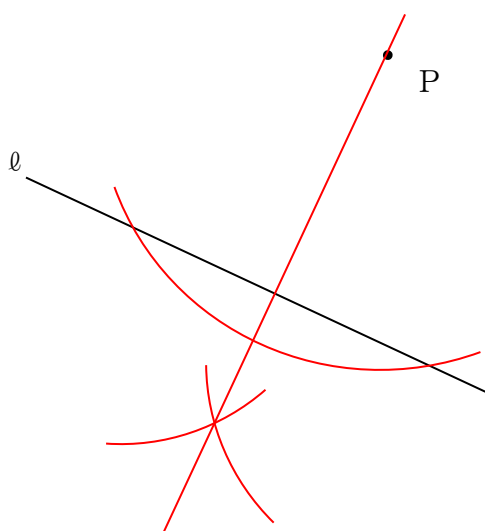
③ 下の図で、 $\angle AOB$ の二等分線を作図しなさい。



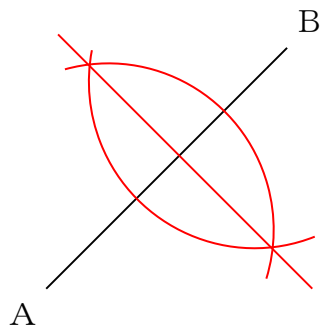
1年 13 (2)	<p>平面図形</p> <p>—基本的な作図の方法—</p>	___年 ___組
		名前

1 次の作図をしなさい。

① 下の図で、点Pを通る直線 l の垂線を2通りの方法で作図しなさい。



② 下の図で、線分ABの垂直二等分線を作図しなさい。



③ 下の図で、 $\angle AOB$ の二等分線を作図しなさい。

