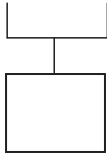


1年 4 (1)	たしざんと ひきざん	___ねん ___くみ なまえ
----------------	------------	--------------------

けいさんを しまししょう。

①  $2 + 3 + 1$



②  $1 + 4 + 2$

③  $4 + 2 + 3$

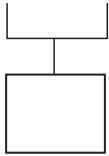
④  $7 + 3 + 5$

⑤  $2 + 4 + 6$

1年 4 (2)	たしざんと ひきざん	___ねん ___くみ なまえ
----------------	------------	--------------------

けいさんを しましょう。

①  $9 - 4 - 1$



②  $8 - 3 - 2$

③  $7 - 3 - 1$

④  $6 - 2 - 4$

⑤  $10 - 5 - 3$

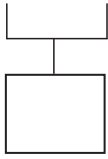
1年  
4  
(3)

たしざんと ひきざん

\_\_\_ねん \_\_\_くみ  
なまえ

けいさんを しましょう。

①  $2 + 3 - 1$



②  $8 - 3 + 2$

③  $10 - 8 + 3$

④  $6 + 4 - 7$

⑤  $8 + 5 - 3$