

取り組んだ日 月 日

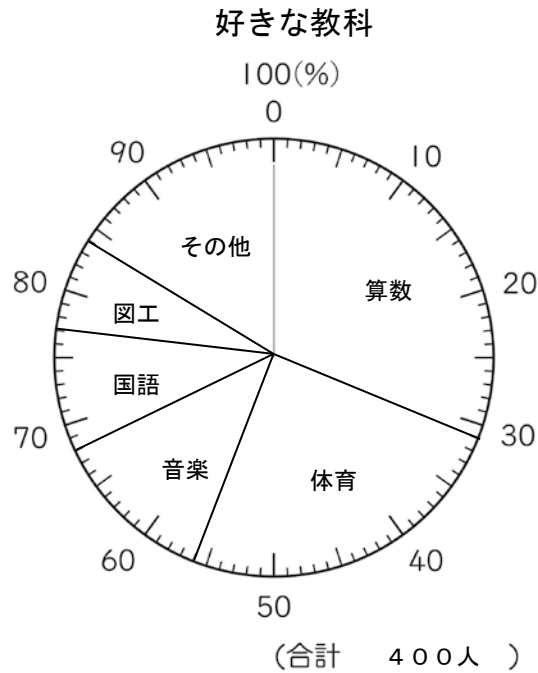
5年  
16  
(1)

帯グラフや円グラフ

年 組

名前

下の表は、ある小学校の子どもたちの好きな教科の種類と、その割合を表したものです。



1 次の教科が好きな人の割合は、全体の何%に当たりますか。

- ①算数 ( )                      ②体育 ( )
- ③音楽 ( )                      ④国語 ( )
- ⑤図工 ( )

2 この小学校の児童数は、400人です。次の教科が好きな人の人数を求めましょう。

- ①算数 式 \_\_\_\_\_ 答え \_\_\_\_\_
- ②音楽 式 \_\_\_\_\_ 答え \_\_\_\_\_

取り組んだ日 月 日

5年  
16  
(2)

### 帯グラフや円グラフ

\_\_\_年 \_\_\_組

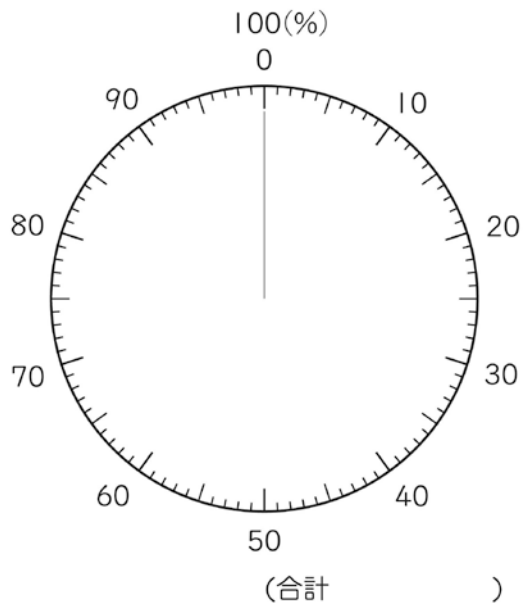

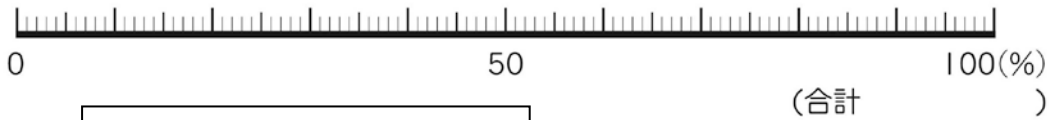
名前

1 右の表は、保健室に来室したけ  
がの件数を種類別にまとめたも  
のです。

全体に対するそれぞれの割合  
を小数第三位を四捨五入して求  
め、百分率(%)に直して表にか  
き入れましょう。また、帯グラフ、  
円グラフに表しましょう。

けが調べ(10月)

種類	件数(件)	百分率(%)
すりきず	26	
打ぼく	17	
切りきず	12	
ねんざ	7	
つき指	2	
その他	6	
合計	70	



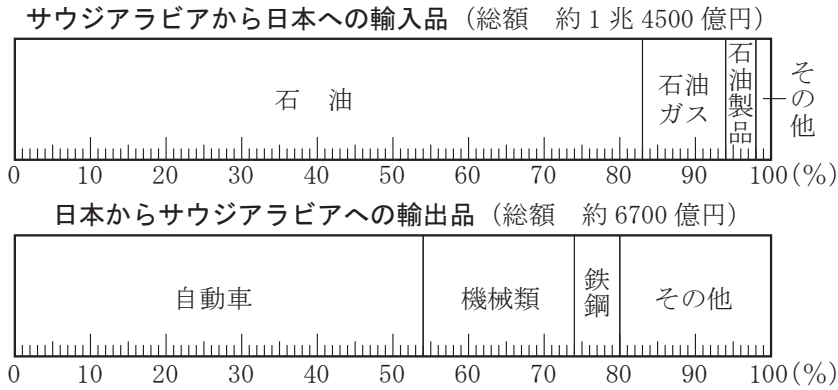
取り組んだ日 月 日

5年  
16  
(3)

帯グラフや円グラフ

\_\_\_年 \_\_\_組  
名前

1 次のグラフを見て、問いに答えましょう。



① サウジアラビアから日本に輸入されるものは、その他をのぞけばすべて石油関連です。石油関連は全体の何%ありますか。

答え \_\_\_\_\_

② サウジアラビアから日本に輸入される石油は、石油ガスの約何倍になりますか。  
(式)

答え \_\_\_\_\_

③ 日本からサウジアラビアへの輸出総額は、約6700億円です。自動車の輸出額は、約何億円になりますか。

(式)

答え \_\_\_\_\_

④ サウジアラビアから輸入される石油は、同国に輸出される自動車の約何倍になりますか。輸入額と輸出額にして考えなさい。

(式)

答え \_\_\_\_\_