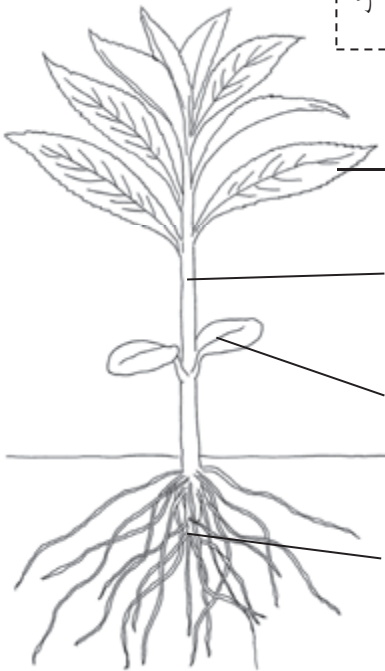


<b>2-1</b>	植物の成長と体のつくり	__年 __組
		名前

1 ホウセンカとヒマワリの体のつくりについて、当てはまる言葉を [ ] の中からえらび、書きましょう。

し  
よ  
う ね は  
子 葉 、 根 、 く き 、 葉



ホウセンカ



ヒマワリ

① ( は (葉) )



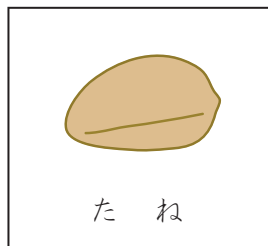
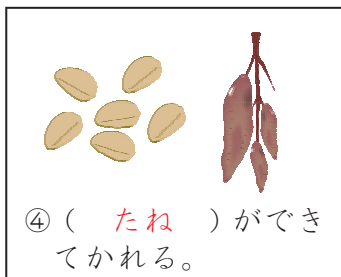
② ( く き )

③ ( しょう (子葉) )

④ ( ね (根) )

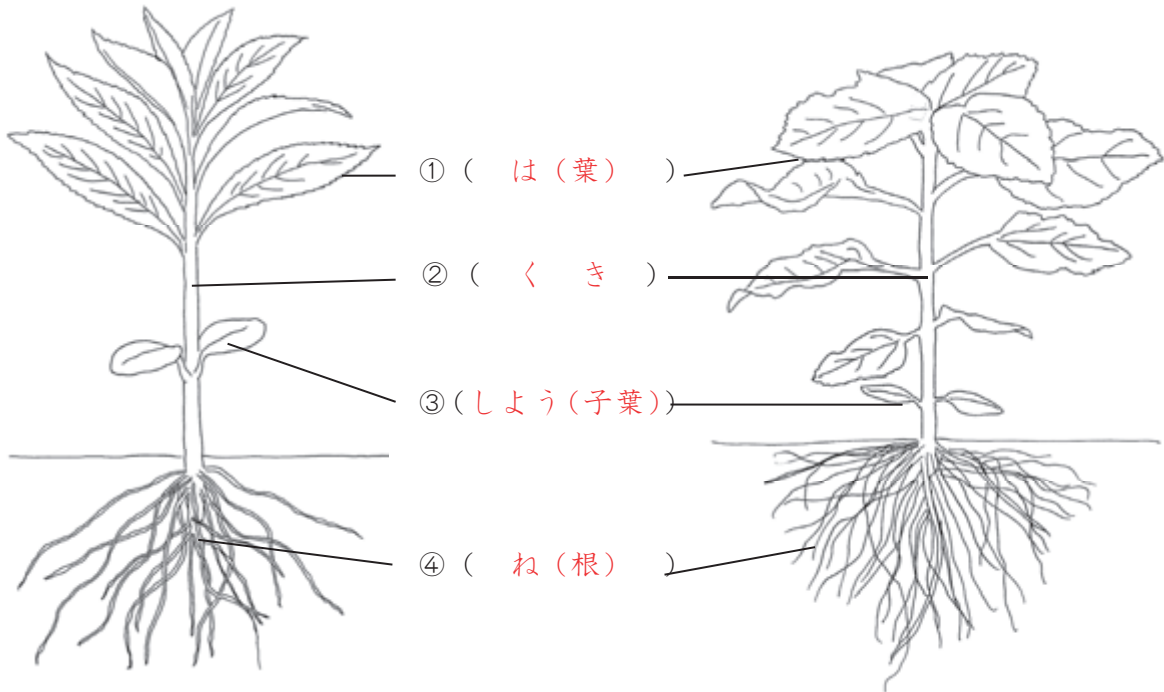
2 しょくぶつ<sup>えだ</sup>の育ち方<sup>つき</sup>について、次の図のようにまとめました。( ) に当てはまる言葉を [ ] の中からえらび、書きましょう。

た ね 、 花 、  
子 葉 、 葉



<b>2-2</b>	植物の成長と体のつくり	__年 __組
		名前

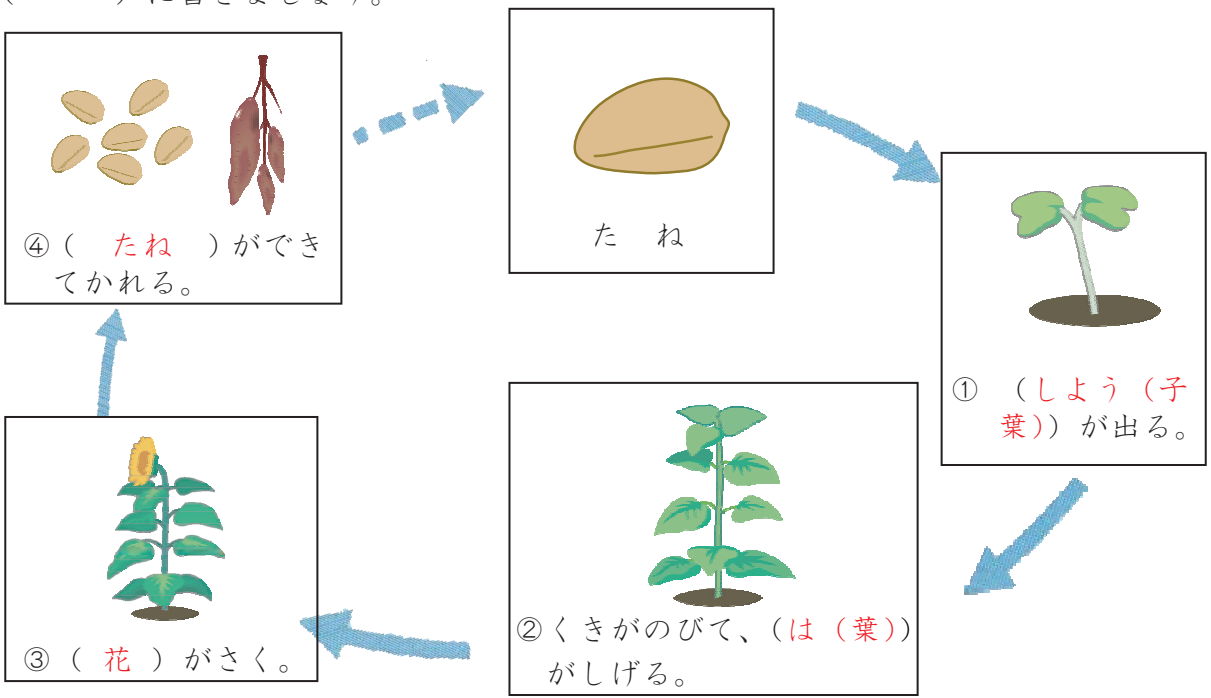
1 ホウセンカとヒマワリの体のつくりについて、当てはまる言葉を ( ) に書きましょう。



ホウセンカ

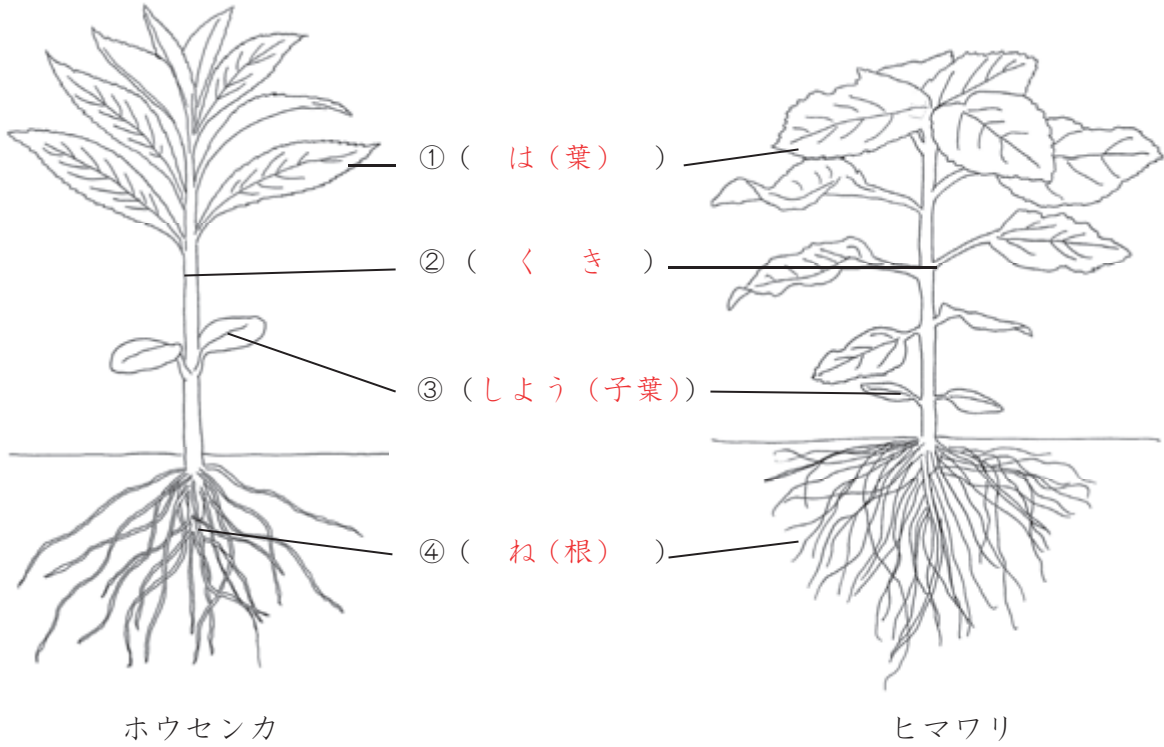
ヒマワリ

2 しょくぶつそだの育ち方つぎについて、次の図のようにまとめました。当てはまる言葉を ( ) に書きましょう。



<b>2-3</b>	植物の成長と体のつくり	__年 __組
		名前

1 ホウセンカとヒマワリの体のつくりについて、当てはまる言葉を（ ）に書きましょう。



2 しょくぶつ<sup>そだ</sup>の育ち方<sup>つき</sup>について、次の図のようにまとめました。当てはまる言葉を（ ）に書きましょう。

