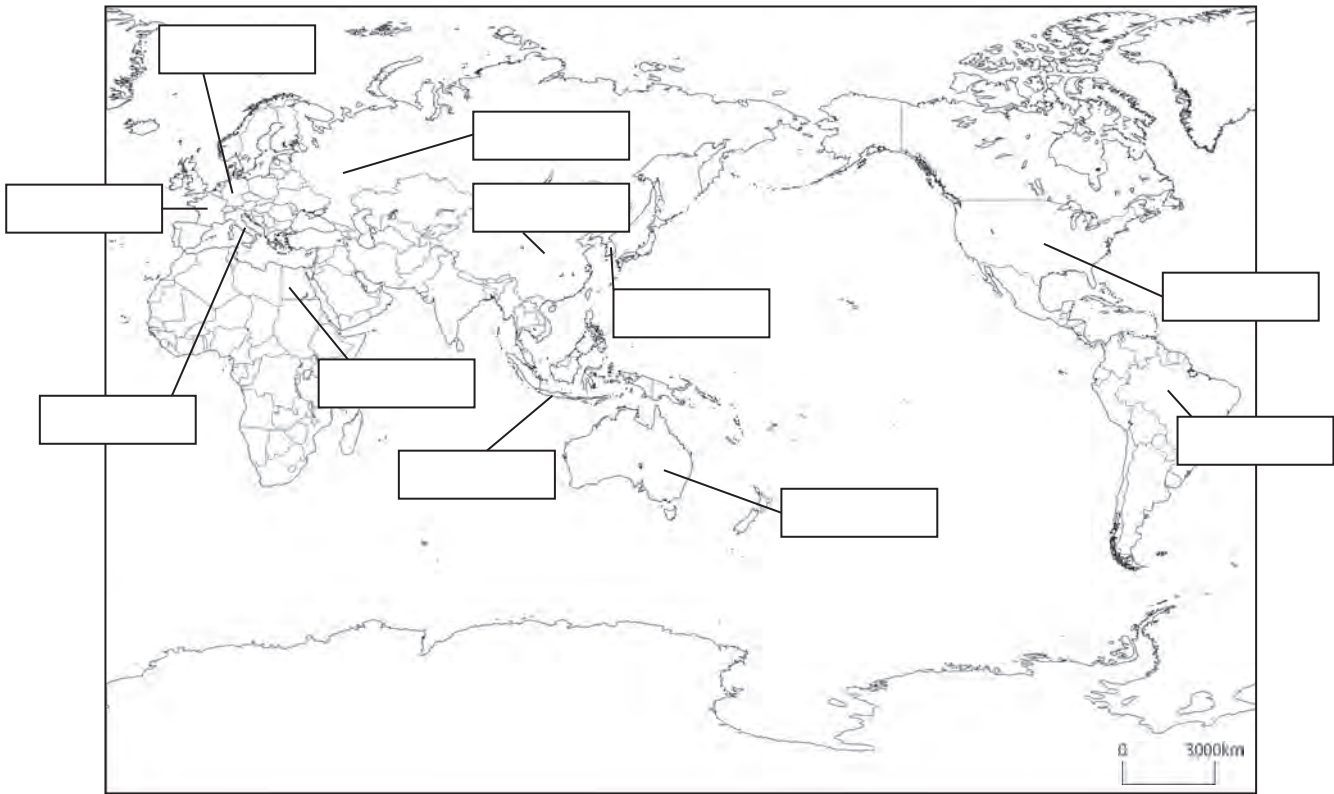


<b>発展3</b>	東京都と外国のつながり 1	___年 ___組
		名前

1 東京都は、次の11の姉妹友好都市と交流を行っています。11の姉妹友好都市がある国について、下の白地図の中の□に、①～⑪の番号を書きましょう。

- ① ニューヨーク市 (アメリカ合衆国)
- ② 北京市 (中華人民共和国)
- ③ パリ市 (フランス)
- ④ ニュー・サウス・ウェールズ州 (オーストラリア)
- ⑤ ソウル特別市 (大韓民国)
- ⑥ ジャカルタ特別市 (インドネシア)
- ⑦ サンパウロ州 (ブラジル)
- ⑧ カイロ県 (エジプト)
- ⑨ モスクワ市 (ロシア連邦)
- ⑩ ベルリン市 (ドイツ)
- ⑪ ローマ市 (イタリア)



2 次の①～④の国の国旗として正しいものを、下のア～エの中から選びましょう。

- ① アメリカ合衆国 ( )
- ② 中華人民共和国 ( )
- ③ 大韓民国 ( )
- ④ オーストラリア ( )

ア



イ



ウ



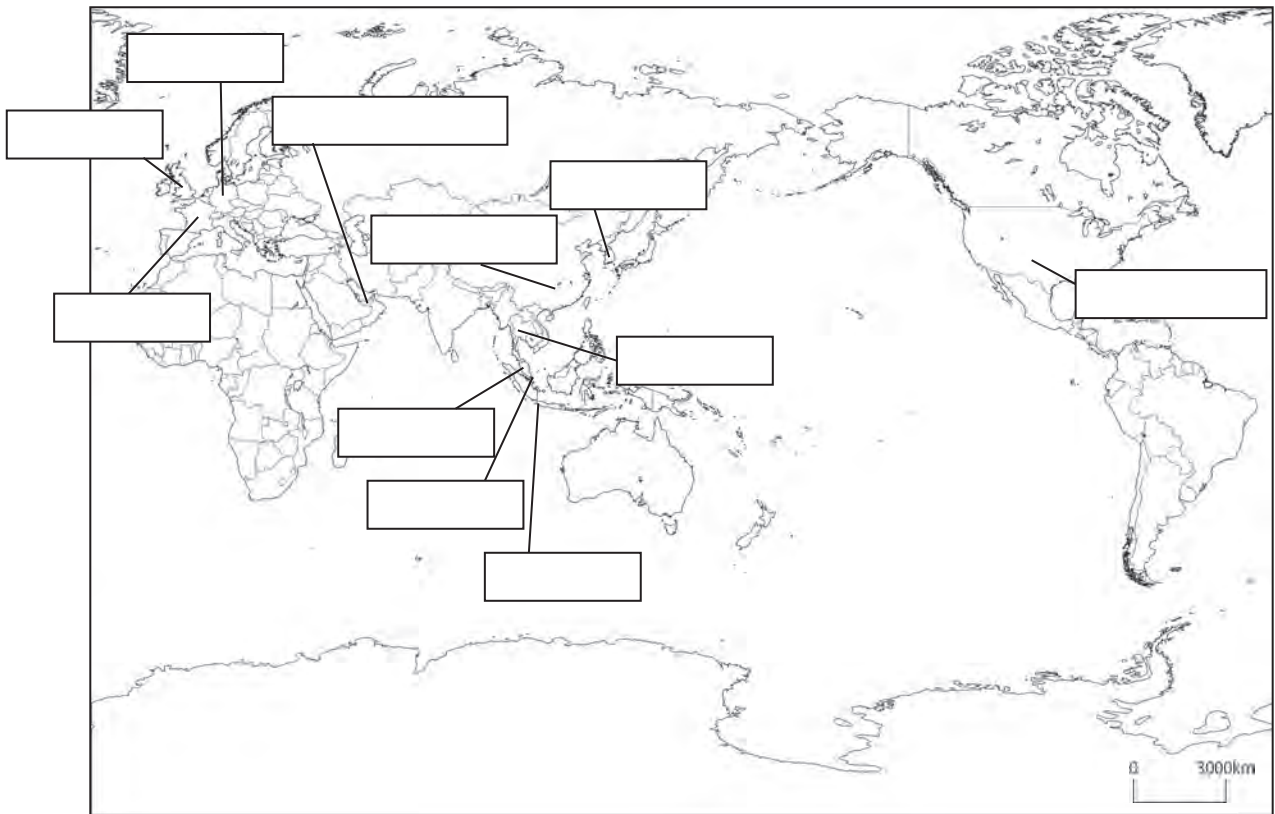
エ



<b>発展4</b>	東京都と外国のつながり2	___年 ___組
		名前

1 つぎ 次の国は、東京国際空港（羽田空港）から直行便が出ている国の中の名前です（平成25年4月現在）。①～⑪の国の番号を、下の白地図の中の□に書きましょう。

- |            |           |
|------------|-----------|
| ① 大韓民国     | ② アメリカ合衆国 |
| ③ マレーシア    | ④ 中華人民共和国 |
| ⑤ アラブ首長国連邦 | ⑥ インドネシア  |
| ⑦ シンガポール   | ⑧ タイ      |
| ⑨ フランス     | ⑩ ドイツ     |
| ⑪ イギリス     |           |



2 次の国旗は、上の①～⑪のいずれかの国の国旗です。国旗の下の□に国名を書きましょう。

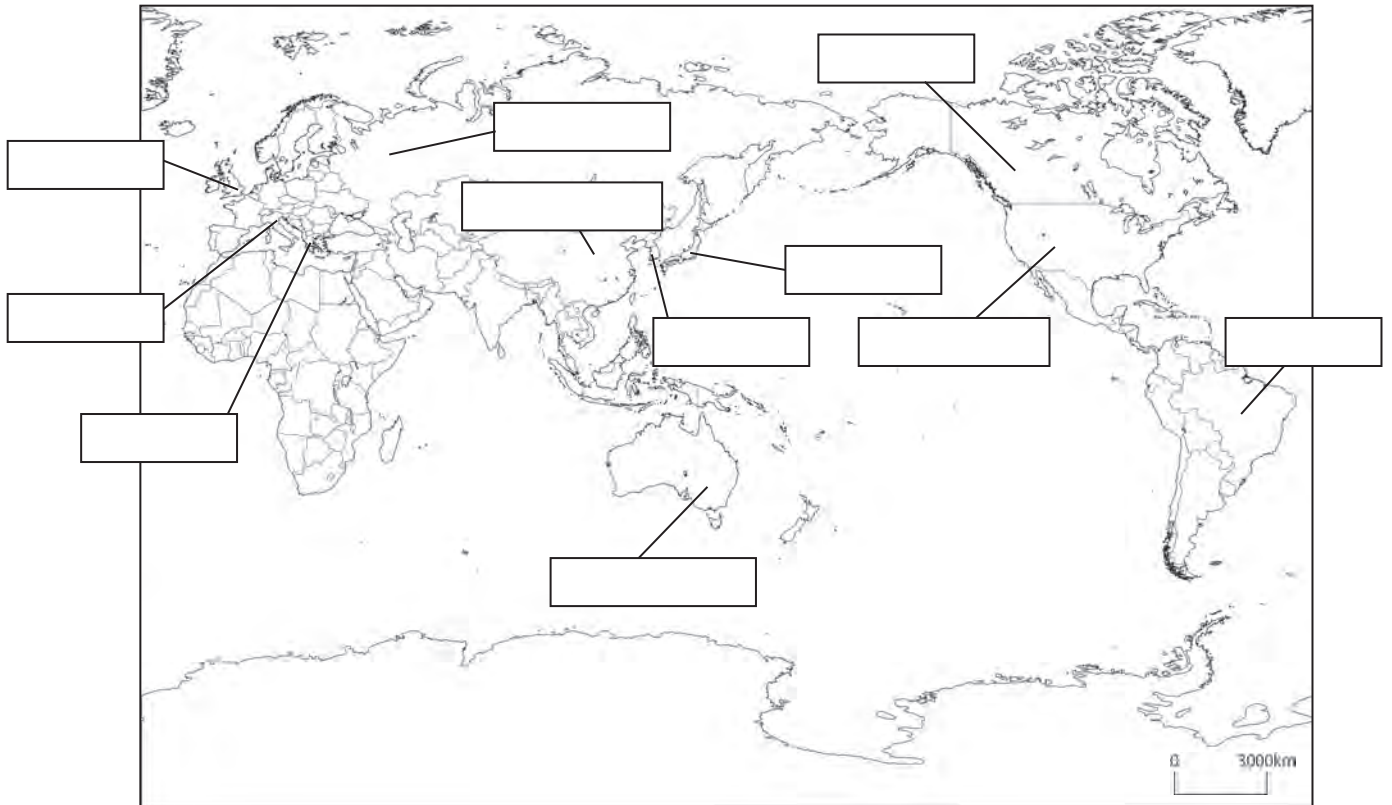


<b>発展5</b>	東京都と外国のつながり3	___年 ___組
		名前

次の①～⑪は、2000年から2020年の間にオリンピック・パラリンピックが行われた国と都市(予定も含む)です。

- |                        |                            |
|------------------------|----------------------------|
| ① 2000年 オーストラリア(シドニー)  | ② 2002年 アメリカ合衆国(ソルトレイクシティ) |
| ③ 2004年 ギリシャ(アテネ)      | ④ 2006年 イタリア(トリノ)          |
| ⑤ 2008年 中華人民共和国(北京)    | ⑥ 2010年 カナダ(バンクーバー)        |
| ⑦ 2012年 イギリス(ロンドン)     | ⑧ 2014年 ロシア連邦(ソチ)          |
| ⑨ 2016年 ブラジル(リオデジャネイロ) | ⑩ 2018年 大韓民国(ピョンチャン)       |
| ⑪ 2020年 日本(東京)         |                            |

1 上のそれぞれの国について、下の白地図の中の□に、①～⑪の番号を書きましよう。



2 次の国旗は、上の①～⑪のいずれかの国の国旗です。国旗の下の□に国名を書きましよう。

