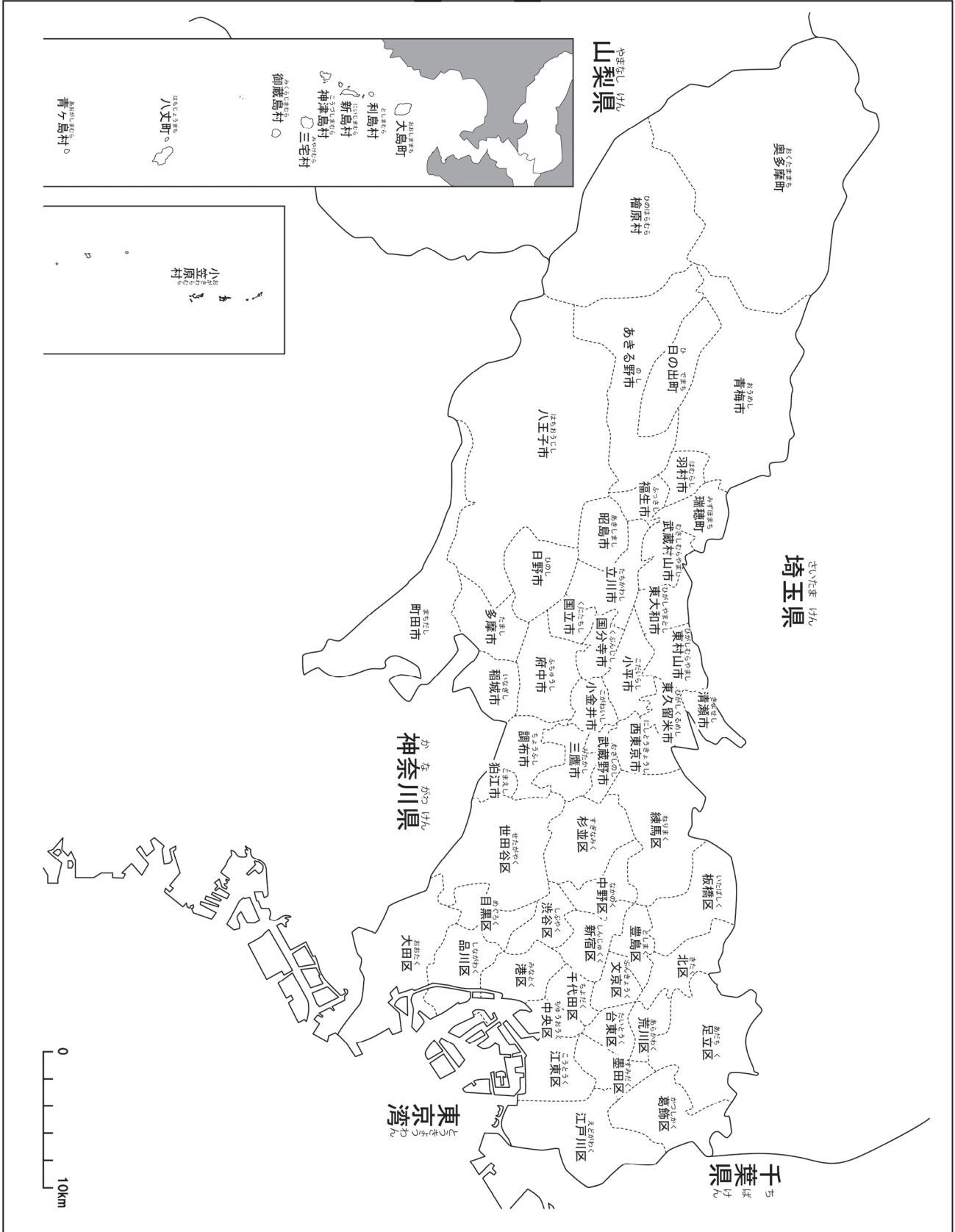


2	東京都の区市町村	年 組 名前
---	----------	-----------

東京都には、62の区市町村(23区、26市、5町、8村)があります。



2-(1)	東京都の区市町村 1	____年 ____組
		名前

下の地図を見て答えましょう。

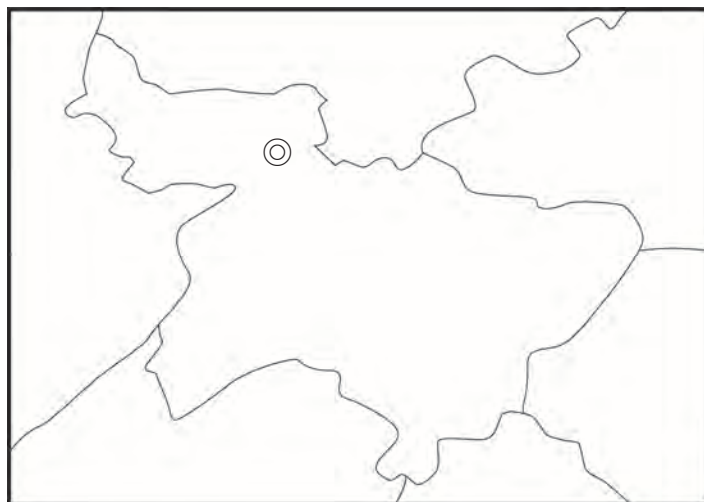
- ① あなたがくらしている区市町村の名前を書きましょう。
- ② あなたがくらしている区市町村に赤色をぬりましょう。



ポイント 東京都には、62の区市町村（区が23、市が26、町が5、村が8）があります。

- ③ あなたがくらしている区市町村の形を下の□の中に大きくかきましょう。
そして、あなたの家の位置に、◎をかきましょう。

例) 新宿区



2- (2)	東京都の区市町村 2	___年 ___組
		名前

下の地図を見て答えましょう。



① あなたがくらししている区市町村の名前を書き、上の地図に赤色をぬりましょう。

② あなたがくらししている区市町村に面している区市町村や県の名前を書きましょう。

例) 新宿区の場合

千代田区、港区、文京区、渋谷区、中野区、豊島区

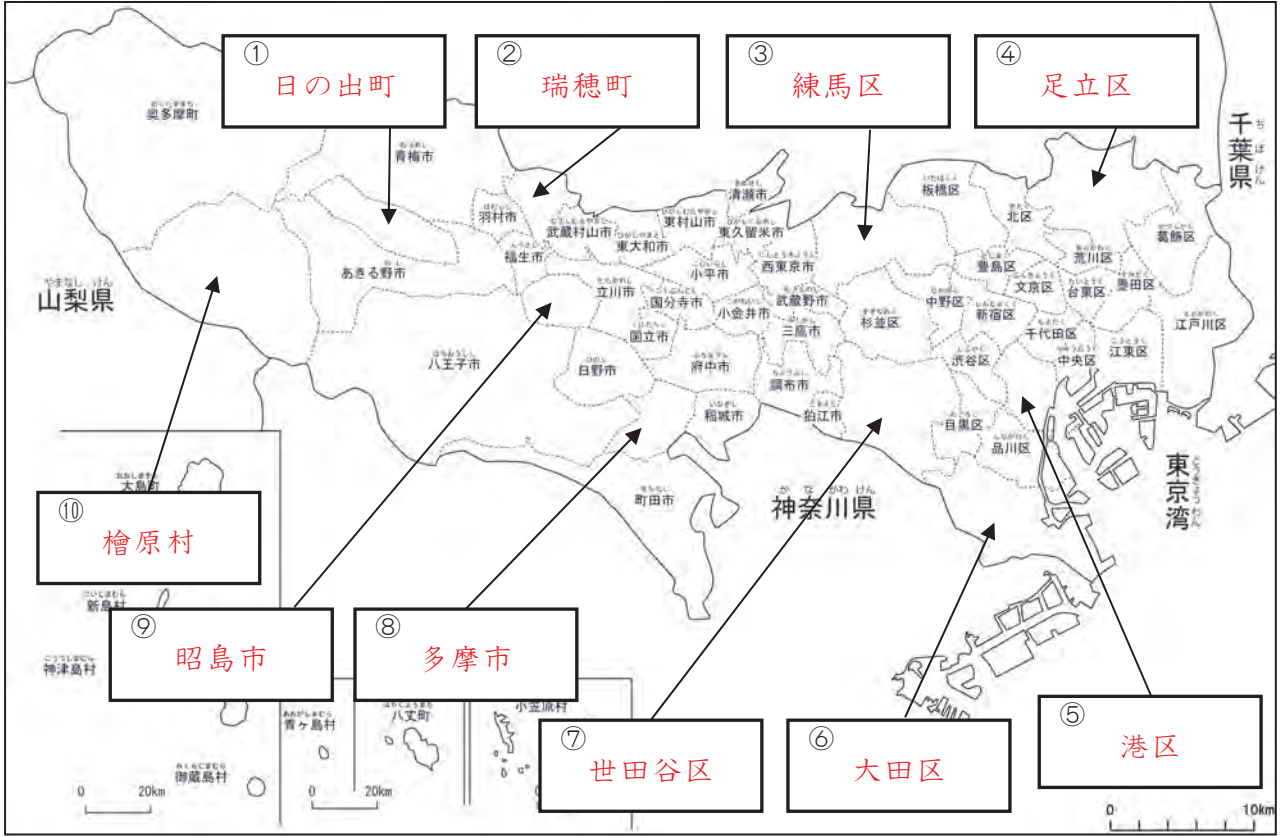
③ あなたが行ったことのある区市町村の名前を書き、上の地図に青色をぬりましょう。

例)

台東区、大田区、江戸川区、町田市、府中市、大島町、小笠原村 など

2-(3)	東京都の区市町村 3	____年 ____組 名前
-------	------------	-------------------

下の地図を見て答えましょう。



1 ①～⑩に当てはまる区市町村の名前を に書きましょう。また、あなたがらしている区市町村に赤色をぬりましょう。

2 かながわけん 神奈川県と面している区市町村に青色をぬりましょう。そして、その区市町村の名前を、下の に書きましょう。

大田区

世田谷区

狛江市

調布市

稲城市

多摩市

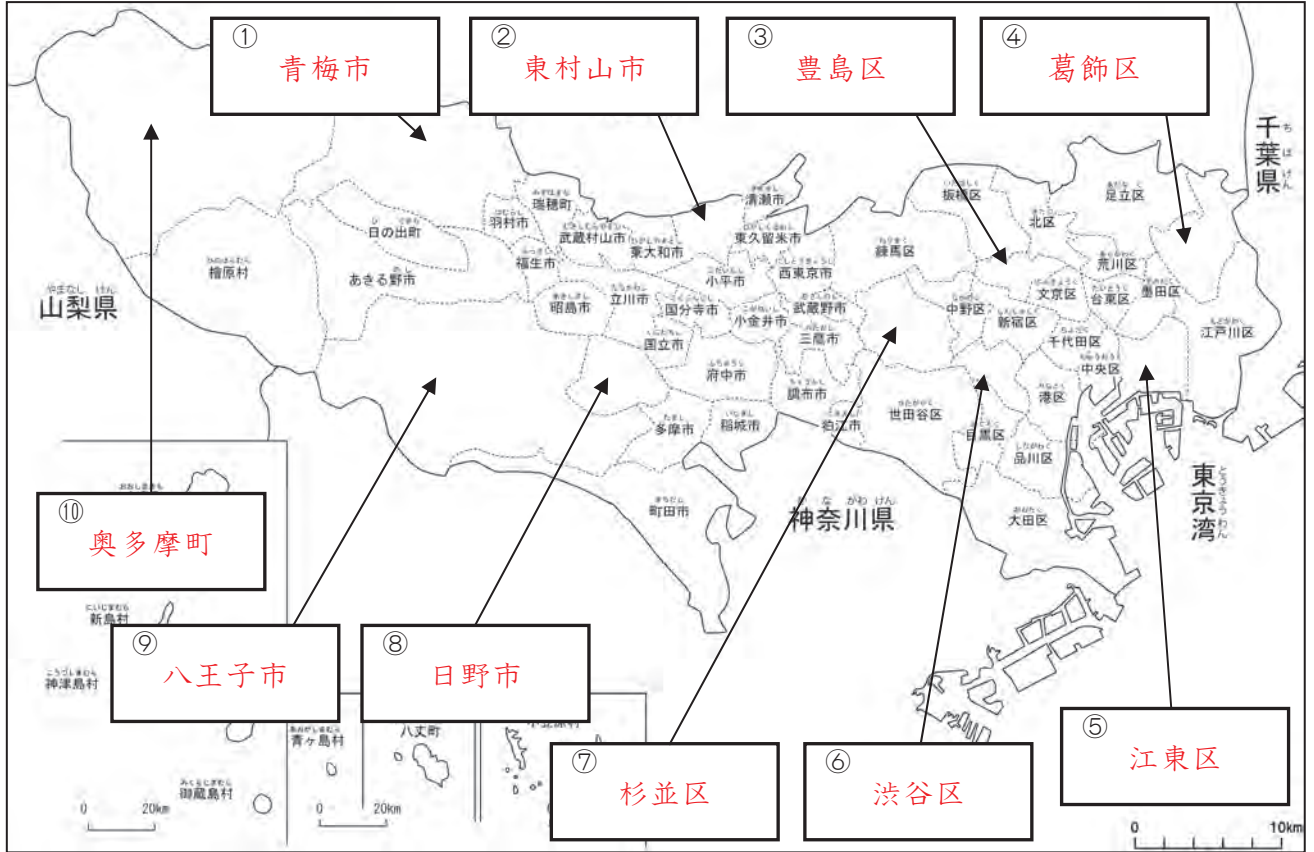
町田市

八王子市

檜原村

2-(4)	東京都の区市町村 4	___年 ___組
		名前

下の地図を見て答えましょう。



1 ①～⑩に当てはまる区市町村の名前を に書きましょう。また、あなたが知っている区市町村に赤色をぬりましょう。

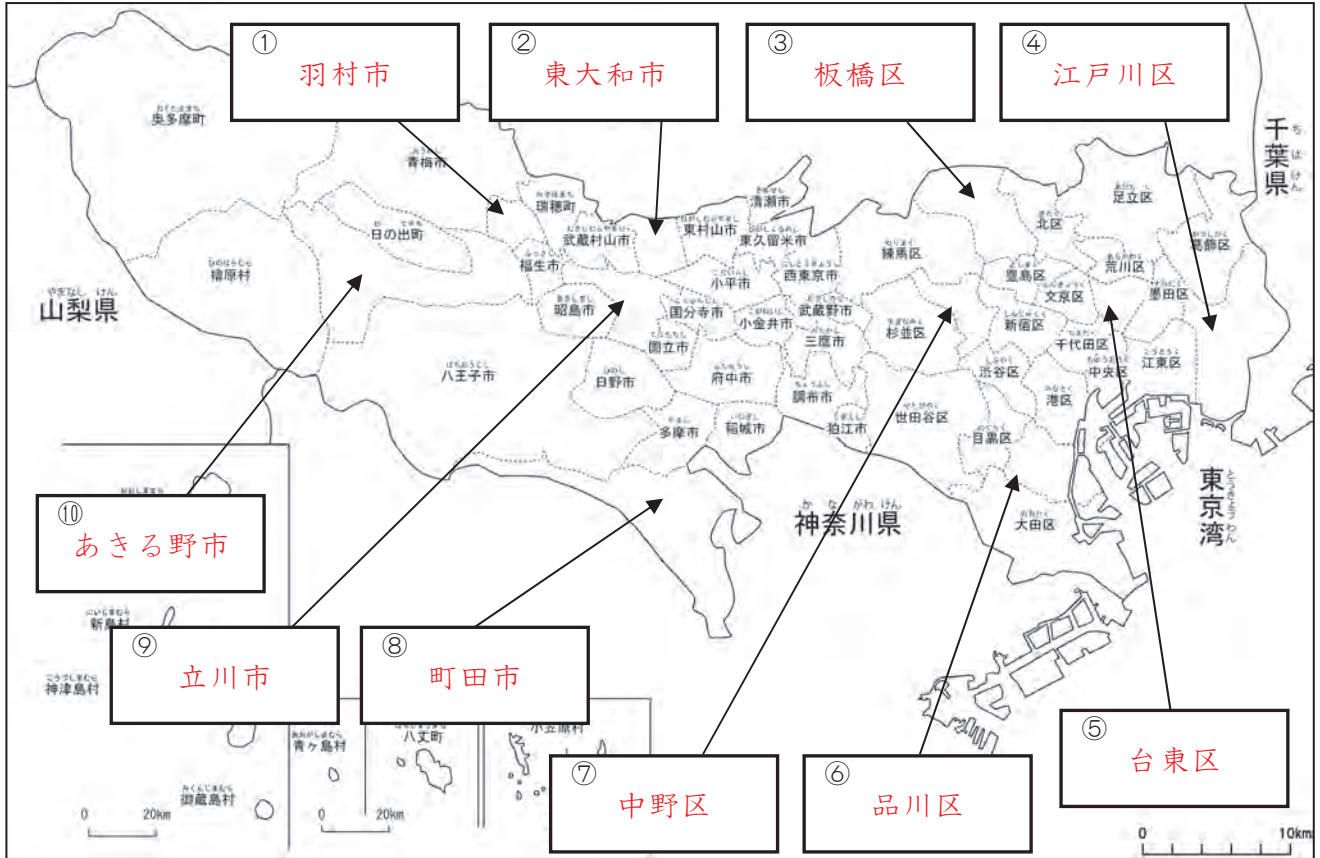
2 やまなしけん めん 山梨県に面している区市町村に青色をぬりましょう。また、ちばけん 千葉県に面している区市町村に黄色をぬりましょう。そして、その区市町村の名前を、下の に書きましょう。

○山梨県に面している区市町村

○千葉県に面している区市町村

2-(5)	東京都の区市町村 5	___年 ___組
		名前

下の地図を見て答えましょう。



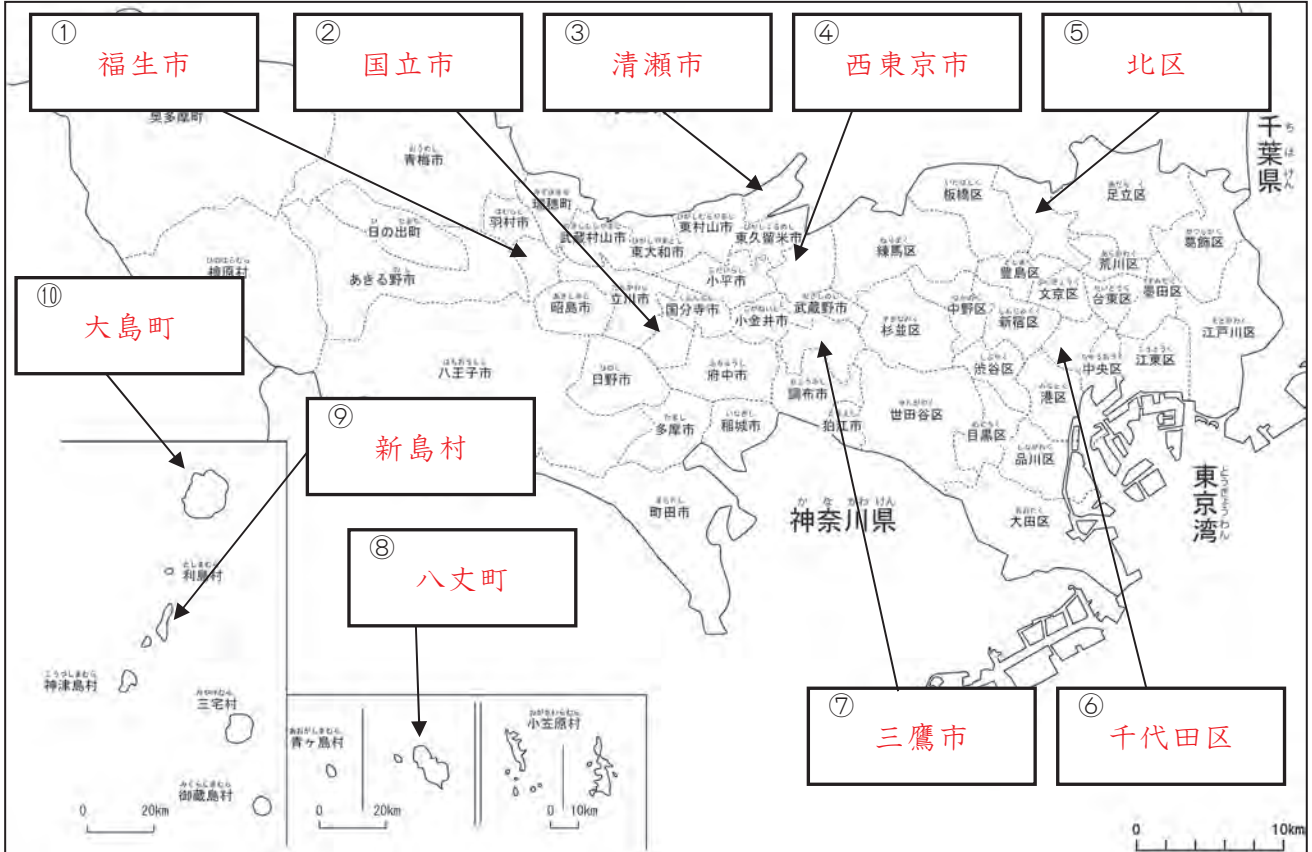
1 ①～⑩に当てはまる区市町村の名前を に書きましょう。また、あなたがくらしている区市町村に赤色をぬりましょう。

2 さいたまけん めん 埼玉県に面している区市町村に青色をぬりましょう。そして、その区市町村の名前を、下の に書きましょう。

葛飾区	足立区	北区	板橋区
練馬区	西東京市	東久留米市	清瀬市
東村山市	東大和市	武蔵村山市	瑞穂町
青梅市	奥多摩町		

2-(6)	東京都の区市町村 6	___年 ___組
		名前

下の地図を見て答えましょう。



1 ①～⑩に当てはまる区市町村の名前を に書きましょう。また、あなたがくらしている区市町村に赤色をぬりましょう。

2 東京湾に面している区市町村に青色をぬりましょう。そして、その区市町村の名前を、下の に書きましょう。

大田区

品川区

港区

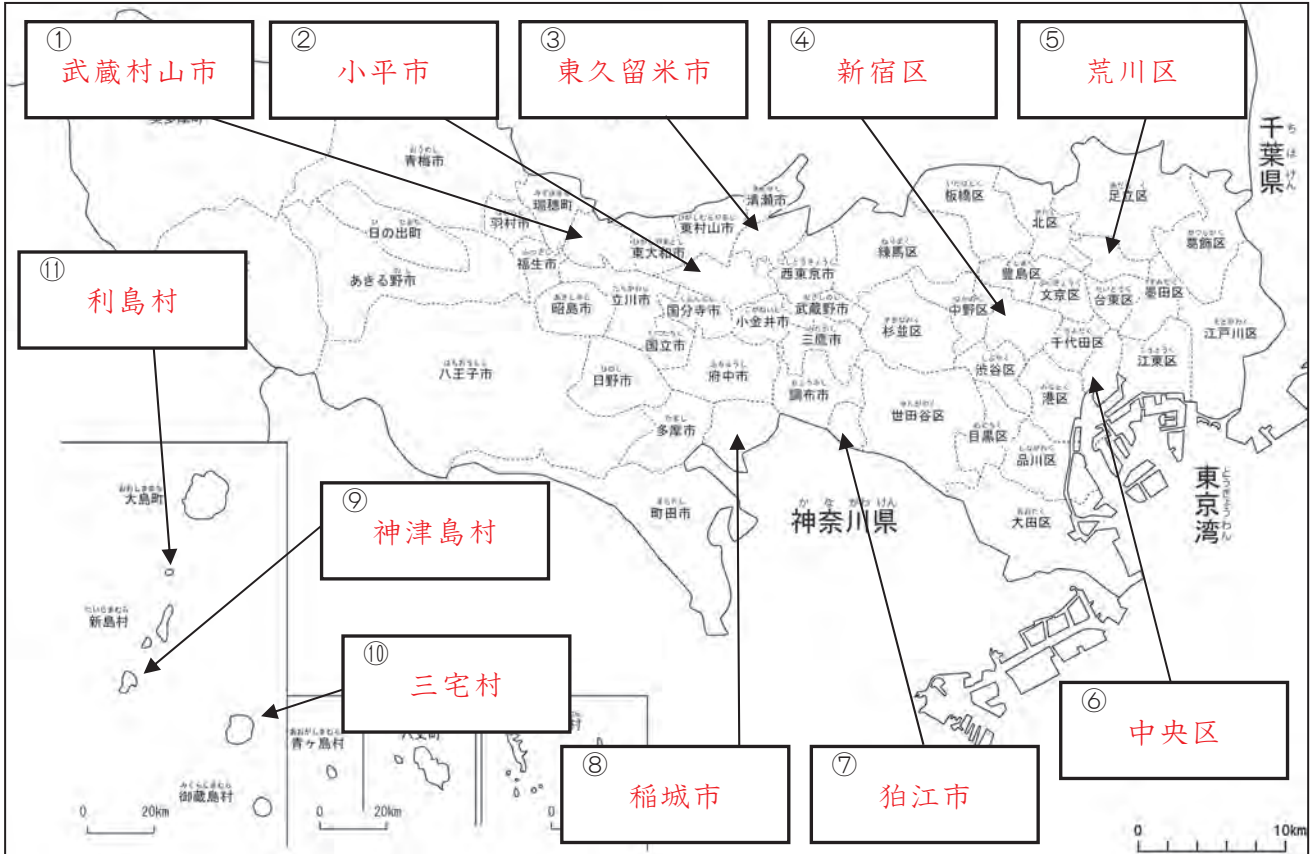
中央区

江東区

江戸川区

2-(7)	東京都の区市町村 7	___年 ___組
		名前

下の地図を見て答えましょう。



1 ①～⑪に当てはまる区市町村の名前を に書きましょう。また、あなたがくらしている区市町村に赤色をぬりましょう。

2 名前に「大・中・小」の字が入っている区市町村に青色をぬりましょう。そして、その区市町村の名前を、下の に書きましょう。

大田区

東大和市

大島町

中央区

中野区

府中市

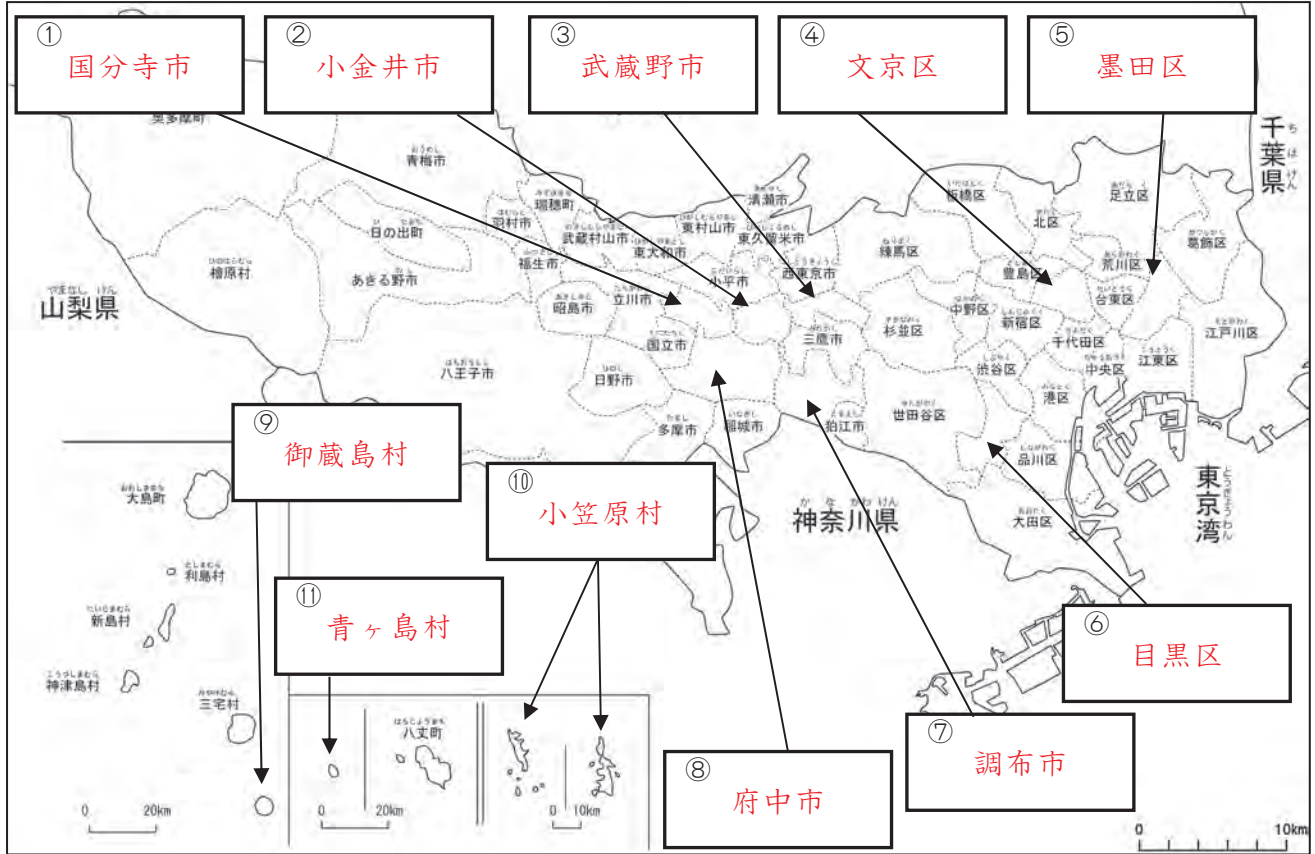
小金井市

小平市

小笠原村

2-(8)	東京都の区市町村 8	___年 ___組
		名前

下の地図を見て答えましょう。



1 ①～⑪に当てはまる区市町村の名前を に書きましょう。また、あなたがくらしている区市町村に赤色をぬりましょう。

2 名前に「東西南北」の字が入っている区市町村に青色をぬりましょう。そして、その区市町村の名前を、下の に書きましょう。

台東区

江東区

北区

東村山市

東大和市

東久留米市

西東京市

2-(9)

東京都の区市町村 9

____年 ____組
名前

右の地図を見て
答えましょう。



1

1～62に当てはまる区市町村の名前を()に書きましょう。

- 1(千代田区) 2(中央区) 3(港区) 4(新宿区)
5(文京区) 6(台東区) 7(墨田区) 8(江東区)
9(品川区) 10(目黒区) 11(大田区) 12(世田谷区)
13(渋谷区) 14(中野区) 15(杉並区) 16(豊島区)
17(北区) 18(荒川区) 19(板橋区) 20(練馬区)
21(足立区) 22(葛飾区) 23(江戸川区) 24(八王子市)
25(立川市) 26(武蔵野市) 27(三鷹市) 28(青梅市)
29(府中市) 30(昭島市) 31(調布市) 32(町田市)
33(小金井市) 34(小平市) 35(日野市) 36(東村山市)
37(国分寺市) 38(国立市) 39(福生市) 40(狛江市)
41(東大和市) 42(清瀬市) 43(東久留米市) 44(武蔵村山市)
45(多摩市) 46(稲城市) 47(羽村市) 48(あきる野市)
49(西東京市) 50(瑞穂町) 51(日の出町) 52(檜原村)
53(奥多摩町) 54(大島町) 55(利島村) 56(新島村)
57(神津島村) 58(三宅村) 59(御蔵島村) 60(八丈町)
61(青ヶ島村) 62(小笠原村)