

令和5年度入学者
東京都立知的障害特別支援学校
高等部就業技術科及び職能開発科

適性検査 I - 2


注 意

- 1 指示があるまで、検査を始めてはいけません。
- 2 声を出して読んではいけません。
- 3 検査をしている間は、話をしてはいけません。
- 4 検査内容に関する質問には答えられません。
- 5 受験番号を決められた欄に記入しなさい。

受験番号

得 点

【問題1】次の問いに答えなさい。

(問1) 次の  の中のお金は、合計で何円ですか。

【答え】の欄に数字で書きなさい。

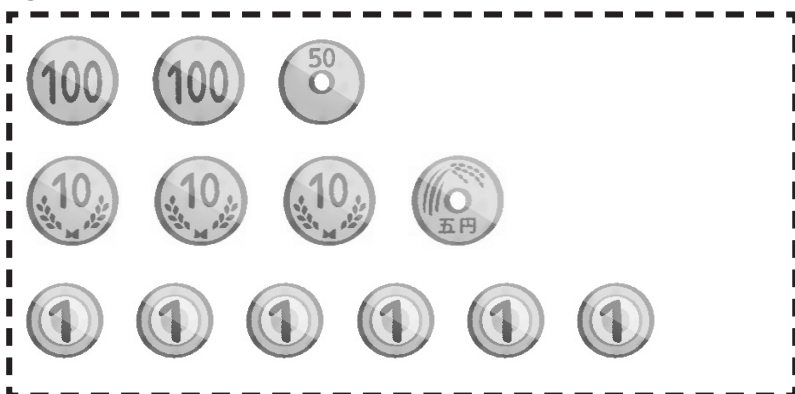
①



①の【答え】


円

②



②の【答え】

円


(問2) 次の  の中のお金を全て5円玉りょうがえに両替すると、5円玉は
何枚まいになりますか。【答え】の欄に数字で書きなさい。



【答え】

枚

(問3) 次の の中のお金について答えなさい。



① の中にあるお金の合計金額から415円引いたら、何円になりますか。【答え】の欄に数字で書きなさい。

【答え】


円

② の中にあるお金の合計金額に350円加えると、何円になりますか。【答え】の欄に数字で書きなさい。

【答え】

円

(問4) ^{ぜいこ}税込み240円のアイスクリームを買います。下のアとイのどちらのお金を持っていけば買うことができますか。アとイのどちらかを選んで【答え】の欄にカタカナで書きなさい。



【答え】

【問題2】 次の問いに答えなさい。

(問1) に当てはまる数を【答え】の欄に数字で書きなさい。

① 1000を27こ集めた数は である。

①の【答え】

② 1000を328こ集めた数は である。

②の【答え】

③ 56000は1000を こ集めた数である。

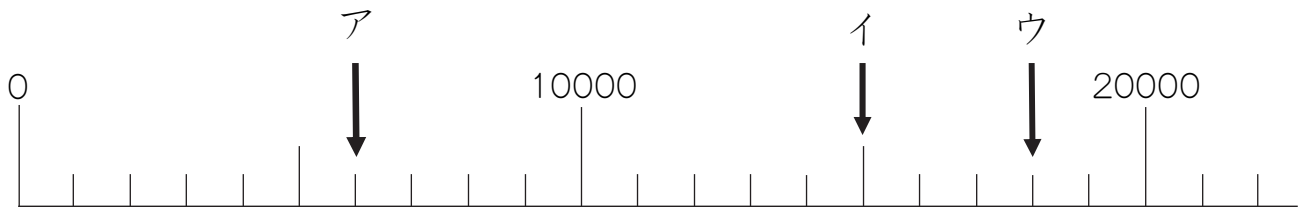
③の【答え】

④ 780000は1000を こ集めた数である。

④の【答え】

(問2) 次の問いに答えなさい。

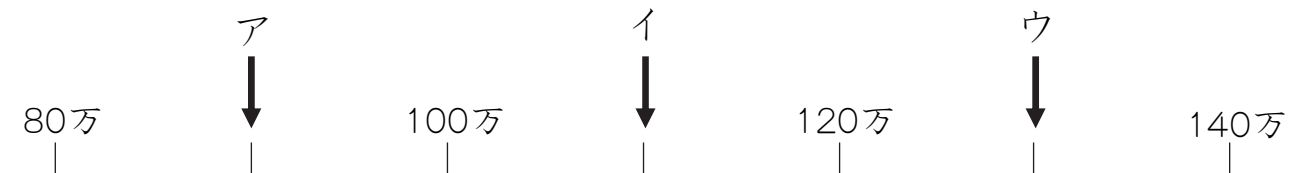
① 下の数直線のア、イ、ウのめもりが表す数を【答え】の欄に数字で書きなさい。



【答え】

ア		イ		ウ	
---	--	---	--	---	--

② 下の数直線のア、イ、ウのめもりが表す数を【答え】の欄に数字で書きなさい。

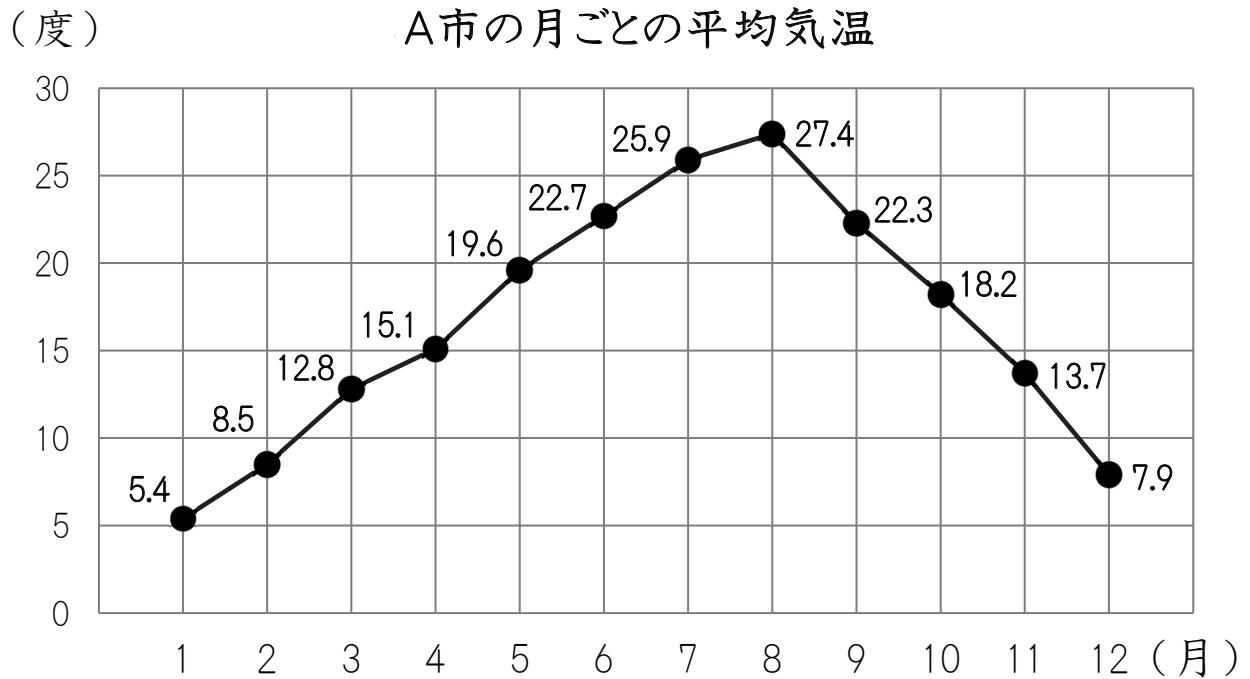


【答え】

ア		万	イ		万	ウ		万
---	--	---	---	--	---	---	--	---

次のページに続く

【問題3】 下のグラフは、A市の月ごとの平均気温へいきん きおんを表したものです。
このグラフについて、次の問いに答えなさい。



(問1) 6月の平均気温は、何度ですか。【答え】の欄らんに数字で書きなさい。

【答え】 度

(問2) 平均気温がいちばん高い月は何月で、何度ですか。

【答え】の欄に数字で書きなさい。

【答え】 ()月で、()度

(問3) 平均気温がいちばん低い月は何月で、何度ですか。

【答え】の欄に数字で書きなさい。

【答え】 ()月で、()度

(問4) 9月の平均気温は、8月の平均気温より何度低いですか。

【答え】の欄に数字で書きなさい。

【答え】 度