

A1

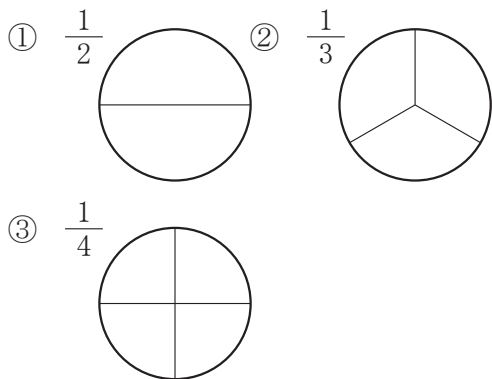
2年 算数

__年 __組 __番

まえ
名前

1 つぎの数はいくつですか。

- ① 10を46こあつめた数
- ② 100を3こ、10を7こ、1を2こあわせた数
- ③ 100を80こあつめた数
- ④ 1000を10こあつめた数
- ⑤ 5000より400小さい数

2 $\frac{1}{2}$ 、 $\frac{1}{3}$ 、 $\frac{1}{4}$ の大きさに色をぬりましょう。

3 計算をしましょう。

- ① $34+18$
- ② $68+51$
- ③ $23+89$
- ④ $8+94$

4 計算をしましょう。

- ① $47-39$
- ② $90-30$
- ③ $137-55$
- ④ $108-29$

5 計算をしましょう。

- | | |
|----------------|----------------|
| ① 2×7 | ② 3×4 |
| ③ 4×7 | ④ 5×9 |
| ⑤ 6×3 | ⑥ 7×8 |
| ⑦ 8×8 | ⑧ 9×6 |
| ⑨ 8×3 | ⑩ 9×2 |

6 あめ玉がいくつかあります。そのあめ玉に7こくわえたところ、ぜんぶで15こになりました。

- ① この場めんを図でかきましょう。
- ② はじめにあめ玉は、何こありましたか。

A2	2年 算数	年 組 番 名前
-----------	--------------	-------------

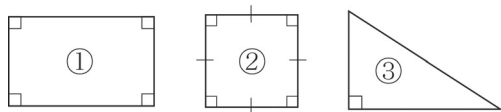
7 □に当てはまる数を書きましょう。

- ① 1 L = dL
- ② 1 L = mL
- ③ 1 cm = mm
- ④ 1 m = cm
- ⑤ 36mm = cm mm
- ⑥ 2 m 9 cm = cm

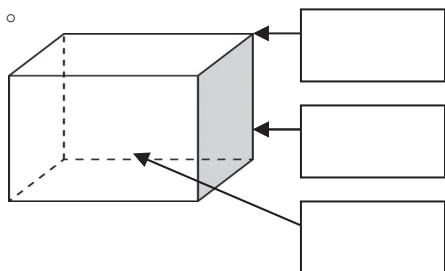
8 □に当てはまる数を書きましょう。

- ① 1 時間 = 分
- ② 1 日 = 時間
- ③ 1 時間 20 分 = 分
- ④ 110 分 = 時間 分

9 次の図形の名前をかきましょう。



10 □に当てはまることばをかきましょう。



11 すきなくだものをしらべました。ひょうやグラフにせいりしましょう。

リンゴ	リンゴ	ミカン	イチゴ	リンゴ	イチゴ
リンゴ	ミカン	メロン	リンゴ	リンゴ	イチゴ
イチゴ	リンゴ	メロン	モモ	イチゴ	リンゴ
モモ	メロン	ミカン	ミカン	イチゴ	ミカン

①ひょうにせいりしましょう。

しゅるい					
数(人)					

②下のグラフにせいりしましょう。
 すきなくだものしらべ
