

C1

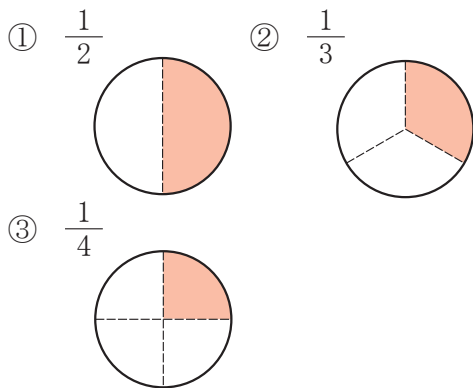
2年 算数

__年 __組 __番

まえ
名前

1 つぎの数はいくつですか。

- ① 10を67こあつめた数
670
- ② 100を5こ、10を2こ、1を3こ
あわせた数
523
- ③ 100を10こあつめた数
1000
- ④ 1000を10こあつめた数
10000
- ⑤ 2000より100小さい数
1900

2 $\frac{1}{2}$ 、 $\frac{1}{3}$ 、 $\frac{1}{4}$ の大きさに色をぬり
ましょう。(れい)

3 計算をしましょう。

- ① $27+16=43$
- ② $95+31=126$
- ③ $47+58=105$
- ④ $92+9=101$

4 計算をしましょう。

- ① $58-29=29$
- ② $50-40=10$
- ③ $179-88=91$
- ④ $105-66=39$

5 計算をしましょう。

- ① $2 \times 6 = 12$ ② $3 \times 5 = 15$
- ③ $4 \times 6 = 24$ ④ $5 \times 7 = 35$
- ⑤ $6 \times 6 = 36$ ⑥ $7 \times 3 = 21$
- ⑦ $8 \times 2 = 16$ ⑧ $9 \times 3 = 27$
- ⑨ $9 \times 7 = 63$ ⑩ $8 \times 6 = 48$

6 公園に子どもが24人います。とちゅうで、何人かかえたので、15人になりました。

- ① この場めんを図でかきましょう。



- ② かえた子どもは何人でしょう。

$$24-15=9 \quad 9人$$

C2	2年 算数	年 組 番 名前
-----------	--------------	-------------

7 □に当てはまる数を書きましょう。

① 2L = 20 dL

② 3L = 3000 mL

③ 4 cm = 40 mm

④ 5 m = 500 cm

⑤ 82mm = 8 cm 2 mm

⑥ 1 m 5 cm = 105 cm

8 □に当てはまる数を書きましょう。

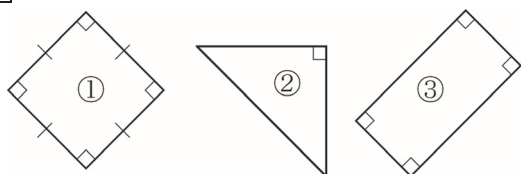
① 3時間 = 180 分

② 2日 = 48 時間

③ 1時間40分 = 100 分

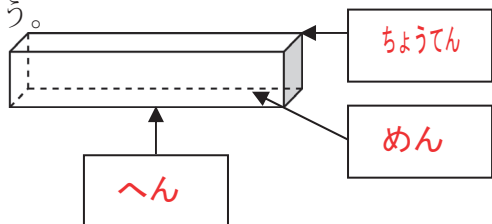
④ 90分 = 1 時間 30 分

9 次の図形の名前をかきましょう。



①正方形 ②直角三角形 ③長方形

10 □に当てはまることばをかきましょう。



11 すきなおかしをしらべました。ひょうやグラフにせいりしましょう。

あめ	ケーキ	ケーキ	ケーキ	ガム	ガム
あめ	あめ	ケーキ	ケーキ	ケーキ	ガム
あめ	あめ	あめ	ケーキ	あめ	にくまん
にくまん	ガム	ケーキ	ガム	ケーキ	だんご

①ひょうにせいりしましょう。

しゅるい	ケーキ	あめ	ガム	にくまん	だんご
数(人)	9	7	5	2	1

②下のグラフにせいりしましょう。
すきなおかししらべ

