


2年 11 (1)	表やグラフ	__年 __ ^{くみ} 組 まへ ^{まえ} 名前
------------------------	-------	--

2年4組で すきなやさいを しらべました。ひょうにあらわしましょう。



しゅるい					
数 (人)					

2年 11 (2)	表やグラフ	__年 __ ^{くみ} 組 まへ 名前
------------------------	-------	--

2年4組で すきなやさいを しらべました。
ひょうをもとに、グラフにあらわしましょう。

しゅるい	きゅうり	なす	だいこん	とまと	じゃがいも
数 (人)	6	5	4	3	2



















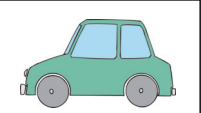





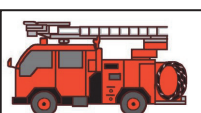

一番多いやさい
()

一番少ないやさい
()

じゃがいもと、なすの
ちがい
() 人

2年 11 (3)	表やグラフ	____年 ____ ^{くみ} 組 名前 ^{まえ}
------------------------	-------	--

2年2組で すきな^{のり}ものを しらべました。ひょうにあらわしましょう。

しゅるい							
数 (人)							

