
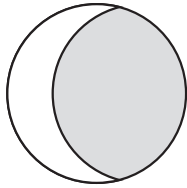




2年
2
(1)

分 数

___年 ___組
まえ
名前


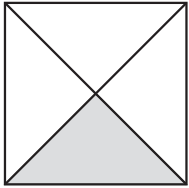
1 $\frac{1}{2}$ の大きさをえらびましょう。

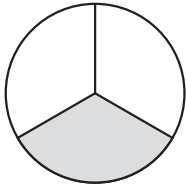
ア  ① 


ウ  ② 

(ウ)


2 色をぬったところは、もとの大きさの何分の1ですか。

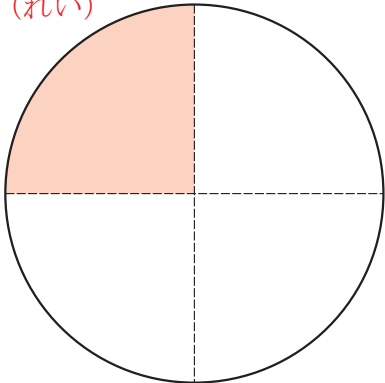
 ($\frac{1}{2}$)  ($\frac{1}{4}$)

 ($\frac{1}{3}$)

 ($\frac{1}{8}$)

3 つぎの大きさに色をぬりましょう。

$\frac{1}{2}$ (れい) 

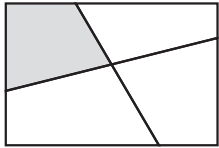
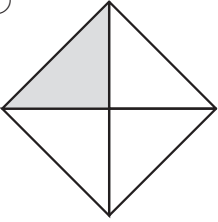
$\frac{1}{4}$ (れい) 

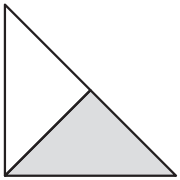

2年
2
(2)

分 数

___年 ___組
まえ
名前

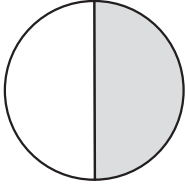

1 $\frac{1}{4}$ の大きさをえらびましょう。


ア  ① 

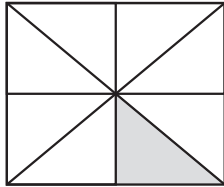
ウ  ② 

(①)

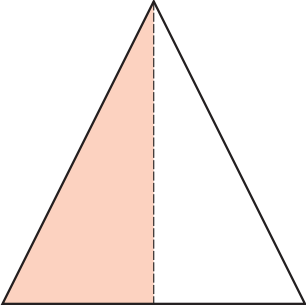
2 色をぬったところは、もとの大きさの何分の1ですか。

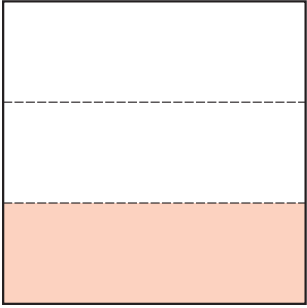
 ($\frac{1}{2}$)  ($\frac{1}{4}$)

 ($\frac{1}{3}$)

 ($\frac{1}{8}$)

3 つぎの大きさに色をぬりましょう。

$\frac{1}{2}$ (れい) 

$\frac{1}{3}$ (れい) 

とく組んだひ 月 日

2年

2

(3)

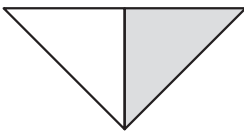
分 数

___年 ___組

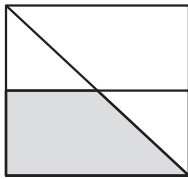
まえ
名前

1 $\frac{1}{2}$ 、 $\frac{1}{3}$ 、 $\frac{1}{4}$ 、 $\frac{1}{8}$ の大きさをぜんぶえらびましょう。

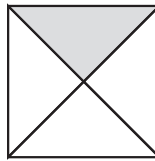
ア



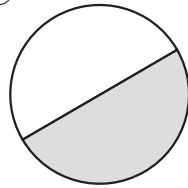
イ



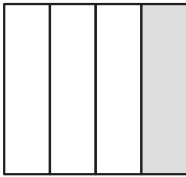
ウ




エ




オ



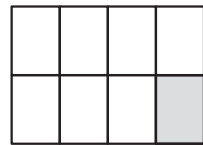
カ



キ




ク



$\frac{1}{2}$ (ア、エ、カ) $\frac{1}{3}$ (キ) $\frac{1}{4}$ (ウ、オ) $\frac{1}{8}$ (ク)

2 つぎの大きさに色をぬりましょう。

$\frac{1}{3}$ (れい)



$\frac{1}{4}$ (れい)

