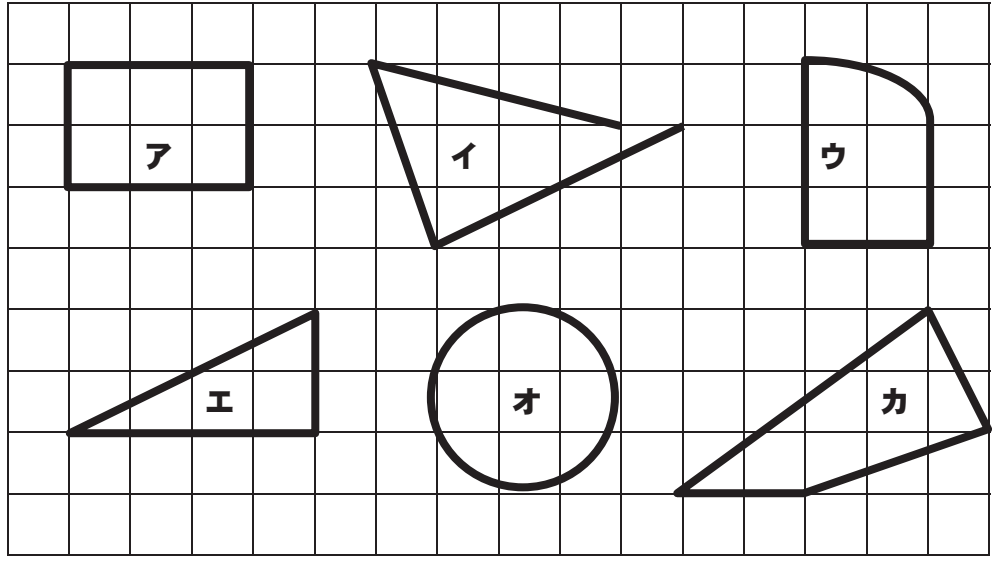



2年 9 (1)	三角形 四角形	___年 ___組
		名前

下の図形から三角形と四角形をえらび、記ごうをすべて書きましょう。



三角形【 エ 】 四角形【 ア、カ 】

つぎのぶ分の名前を書きましょう。

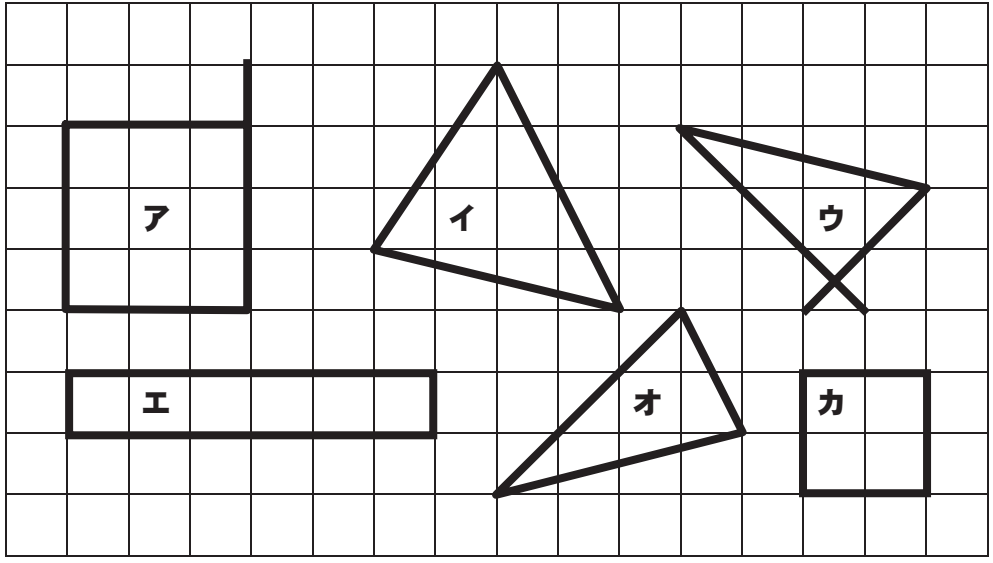


【 ちょうてん 】

【 へん 】

2年 9 (2)	三角形 四角形	___年 ___組
		名前


つぎの中から三角形と四角形をえらび、記ごうをすべて書きましょう。



三角形【 イ、オ 】      四角形【 エ、カ 】

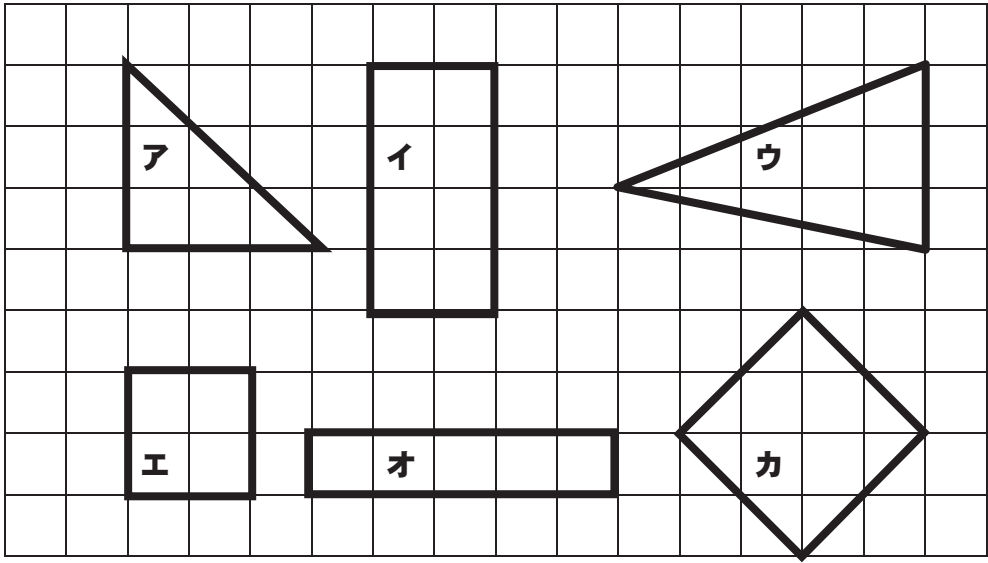
つぎの図形には、直角のところがいくつありますか。

- (1) 長方形      (2) 正方形      (3) 直角三角形  
( 4つ )      ( 4つ )      ( 1つ )



2年 <b>9</b> (3)	三角形 四角形	年 組 名前
-----------------------	---------	-----------

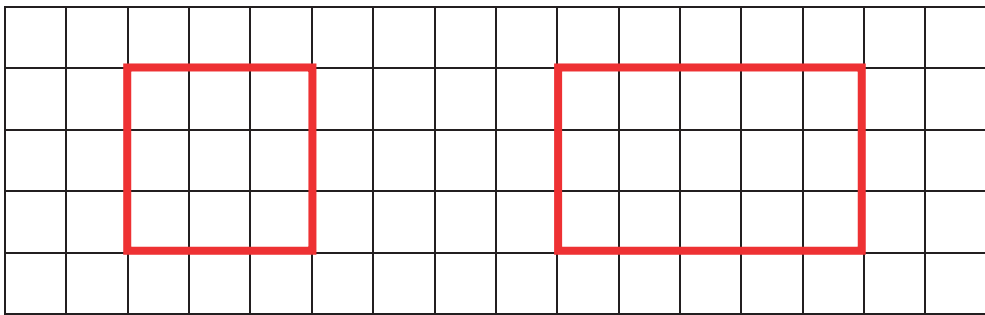
つぎの中から長方形、正方形、直角三角形をえらび、記ごうで答えなさい。



- 長方形 … ( イ、オ )
- 正方形 … ( エ、カ )
- 直角三角形 … ( ア )



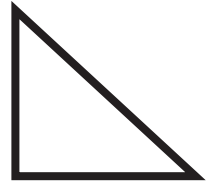
つぎの形をかきましょう。※1ますの目もりは1cmです。

- (1) 1つのへんが3cmの正方形 (2) へんの長さが3cmと5cmの長方形




2年 <b>9</b> (4)	三角形 四角形	年 組 名前
-----------------------	---------	-----------

つぎのひょうをかんせいさせましょう。

図形			
図形の名前	長方形	正方形	直角三角形
へんの数	4つ	4つ	3つ
ちょう点の数	4つ	4つ	3つ
直角の数	4つ	4つ	1つ


つぎのかたちの中に正方形はいくつありますか。

(1)




( 3つ )

(2)



( 5つ )

(3)



( 14 )

2年 <b>9</b> (5)	三角形 四角形	年 組 名前
-----------------------	---------	-----------

つぎのかたちをかきましょう。※1ますの目もりは1cmです。

(1) へんの長さが2cmと4cmの長方形

(2) 直角となる2つの辺が2cmと5cmの直角三角形

(1) (2)

つぎのことについて、当てはまるものに○、当てはまらないものに×をつけましよう。

	正方形	長方形	直角三角形
ちょう点が3つ。	×	×	○
むかい合うへんの長さが同じ。	○	○	×
4つのかどがすべて直角。	○	○	×
4つのへんがすべて同じ長さ。	○	×	×

つぎのかたちの中に直角三角形はいくつありますか。

(1) (2)

( 8つ ) ( 12 )