

取り組んだ日 月 日

1年

13

(1)

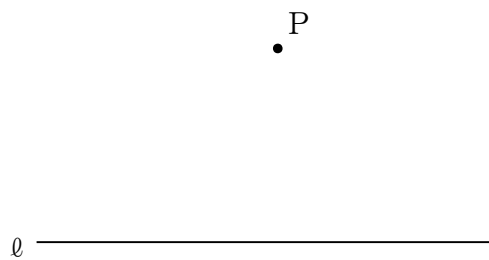
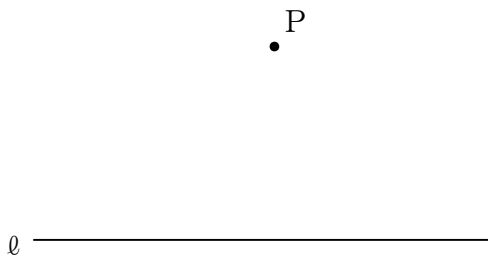
平面図形  
-基本的な作図の方法-

年 組


名前

1 次の作図をなさい。

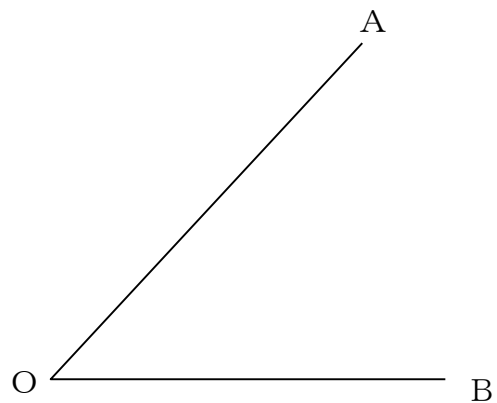
① 下の図で、点Pを通る直線 $l$ の垂線を2通りの方法で作図しなさい。



② 下の図で、線分ABの  
垂直二等分線を作図しなさい。



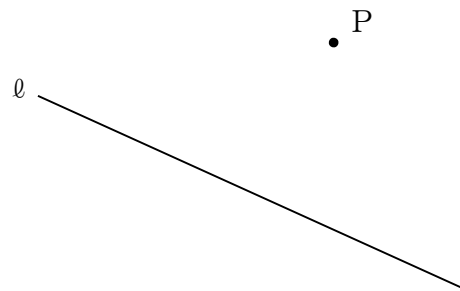
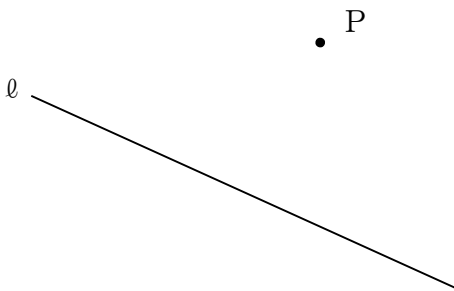
③ 下の図で、 $\angle AOB$ の  
二等分線を作図しなさい。



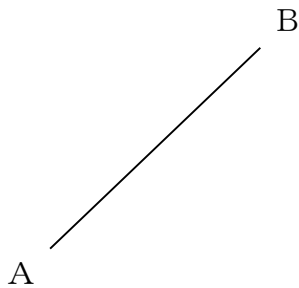
<b>1年</b> <b>13</b> <b>(2)</b>	<b>平面図形</b> -基本的な作図の方法-	____年 ____組 名前
--------------------------------------	----------------------------	-------------------

1 次の作図をなさい。

① 下の図で、点Pを通る直線 $l$ の垂線を2通りの方法で作図しなさい。



② 下の図で、線分ABの垂直二等分線を作図しなさい。



③ 下の図で、 $\angle AOB$ の二等分線を作図しなさい。

