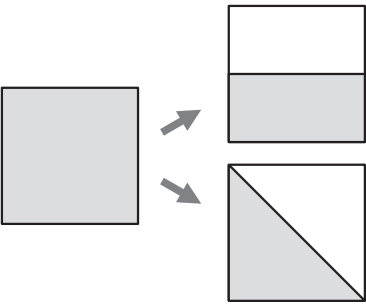
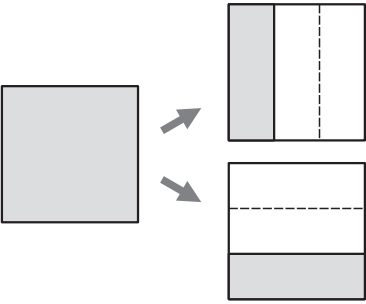


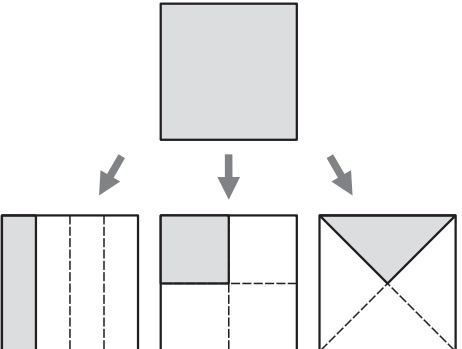
2年 2 解説	分 数	____年 ____組 名前
-----------------------------	------------	-------------------



左のように、同じ大きさに2つに分けた1つ分を、もとの大きさの $\frac{1}{2}$ (二分の一) といいます。



左のように、同じ大きさに3つに分けた1つ分を、もとの大きさの $\frac{1}{3}$ (三分の一) といいます。



左のように、同じ大きさに4つに分けた1つ分を、もとの大きさの $\frac{1}{4}$ (四分の一) といいます。

$\frac{1}{2}$ 、 $\frac{1}{3}$ 、 $\frac{1}{4}$ のようにあらわした数を、分数といいます。