

<b>A1</b>	<b>2年 算数</b>	__年 __組 __番
		名前 <small>まえ</small>

**1** つぎの数はいくつですか。

① 10を46こあつめた数  
**460**

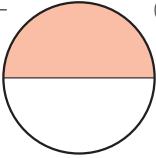
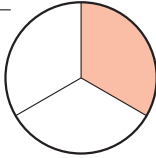
② 100を3こ、10を7こ、1を2こあわせた数  
**372**

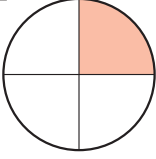
③ 100を80こあつめた数  
**8000**

④ 1000を10こあつめた数  
**10000**

⑤ 5000より400小さい数  
**4600**

**2**  $\frac{1}{2}$ 、 $\frac{1}{3}$ 、 $\frac{1}{4}$ の大きさに色をぬりましょう。(れい)

①  $\frac{1}{2}$   ②  $\frac{1}{3}$  

③  $\frac{1}{4}$  

**3** 計算をしましょう。

①  $34+18=52$

②  $68+51=119$

③  $23+89=112$

④  $8+94=102$

**4** 計算をしましょう。

①  $47-39=8$

②  $90-30=60$

③  $137-55=82$

④  $108-29=79$

**5** 計算をしましょう。

①  $2 \times 7=14$       ②  $3 \times 4=12$

③  $4 \times 7=28$       ④  $5 \times 9=45$

⑤  $6 \times 3=18$       ⑥  $7 \times 8=56$

⑦  $8 \times 8=64$       ⑧  $9 \times 6=54$

⑨  $8 \times 3=24$       ⑩  $9 \times 2=18$

**6** あめ玉がいくつかあります。そのあめ玉に7こくわえたところ、ぜんぶで15こになりました。

① この場めんを図でかきましょう。

はじめ	7こ
-----	----

-----15こ-----

② はじめにあめ玉は、何こありましたか。

**$15-7=8$       8こ**

**A2**      2年 算数      年 組 番  
名前

7 □に当てはまる数を書きましょう。

① 1 L =  dL

② 1 L =  mL

③ 1 cm =  mm

④ 1 m =  cm

⑤ 36mm =  cm  mm

⑥ 2 m 9 cm =  cm

8 □に当てはまる数を書きましょう。

① 1 時間 =  分

② 1 日 =  時間

③ 1 時間 20 分 =  分

④ 110 分 =  時間  分

9 次の図形の名前をかきましょう。

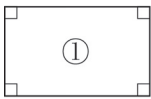
①

②

③

①長方形 ②正方形 ③直角三角形

10 □に当てはまることばをかきましょう



11 すきなくだものをしらべました。ひょうやグラフにせいりしましょう。

リンゴ	リンゴ	ミカン	イチゴ	リンゴ	イチゴ
リンゴ	ミカン	メロン	リンゴ	リンゴ	イチゴ
イチゴ	リンゴ	メロン	モモ	イチゴ	リンゴ
モモ	メロン	ミカン	ミカン	イチゴ	ミカン

①ひょうにせいりしましょう。

しゅるい	リンゴ	イチゴ	ミカン	メロン	モモ
数(人)	8	6	5	3	2

②下のグラフにせいりしましょう。  
すきなくだものしらべ

●				
●				
●	●			
●	●	●		
●	●	●	●	
●	●	●	●	●
●	●	●	●	●
リンゴ	イチゴ	ミカン	メロン	モモ