

**B1****2年 算数**

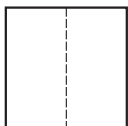
\_\_年 \_\_組 \_\_番

まえ  
名前**1** つぎの数はいくつですか。

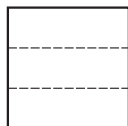
- ① 10を85こあつめた数
- ② 100を7こ、10を4こ、1を9こあわせた数
- ③ 100を30こあつめた数
- ④ 1000を10こあつめた数
- ⑤ 3000より900小さい数

**2**  $\frac{1}{2}$ 、 $\frac{1}{3}$ 、 $\frac{1}{4}$ の大きさに色をぬりましょう。

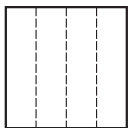
①  $\frac{1}{2}$



②  $\frac{1}{3}$



③  $\frac{1}{4}$

**3** 計算をしましょう。

- ①  $53+29$
- ②  $82+46$
- ③  $54+57$
- ④  $3+98$

**4** 計算をしましょう。

- ①  $27-18$
- ②  $60-20$
- ③  $155-62$
- ④  $103-48$

**5** 計算をしましょう。

- ①  $2 \times 8$                       ②  $3 \times 6$
- ③  $4 \times 9$                       ④  $5 \times 5$
- ⑤  $6 \times 7$                       ⑥  $7 \times 2$
- ⑦  $8 \times 4$                       ⑧  $9 \times 8$
- ⑨  $7 \times 5$                       ⑩  $6 \times 9$

**6** あめ玉がいくつかあります。そのあめ玉に8こくわえたところ、ぜんぶで24こになりました。

- ① この場めんを図でかきましょう。
- ② はじめにあめ玉は、何こありましたか。

<b>B2</b>	<b>2年 算数</b>	年 組 番 名前
-----------	--------------	-------------

7 □に当てはまる数を書きましょう。

① 10dL = □ L

② 1000mL = □ L

③ 10mm = □ cm

④ 3m = □ cm

⑤ 3cm 6mm = □ mm

⑥ 209cm = □ m □ cm

8 □に当てはまる数を書きましょう。

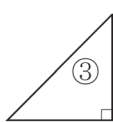
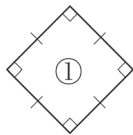
① 60分 = □ 時間

② 24時間 = □ 日

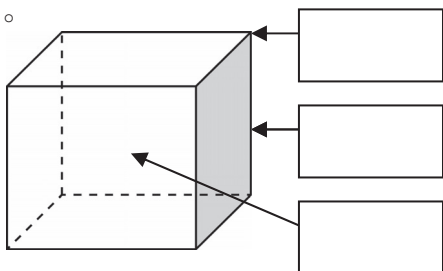
③ 80分 = □ 時間 □ 分

④ 1時間 50分 = □ 分

9 次の図形の名前をかきましょう。



10 □に当てはまることばをかきましょう。



11 すきないろをしらべました。ひょうやグラフにせいりしましょう。

あか	あお	あお	くろ	あお	もも
あお	あか	もも	くろ	あお	もも
くろ	あか	みどり	もも	あか	もも
くろ	あか	あか	あか	くろ	みどり

① ひょうにせいりしましょう。

しゅるい					
数(人)					

② 下のグラフにせいりしましょう。  
すきないろしらべ
