


<b>3年</b> <b>6</b> <b>解説</b>	<b>小数の表し方</b>	年 組 名前
------------------------------------	---------------	-----------

①水のかさは何Lですか。



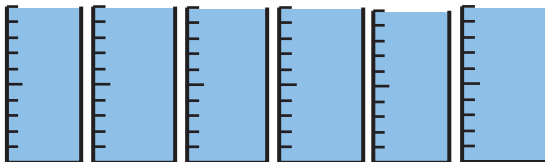
この水は、何Lですか。

**考え方**

- ・ 1 Lを10等分した1こ分のかさを0.1 Lといいます。
- ・ はしたのかさは0.1 Lの何こ分ですか。
- ・ 上の図は、0.1 Lが4こ分です。

だから答えは、**0.4 L**になります。

水のかさは何Lですか。



↓  
6 L

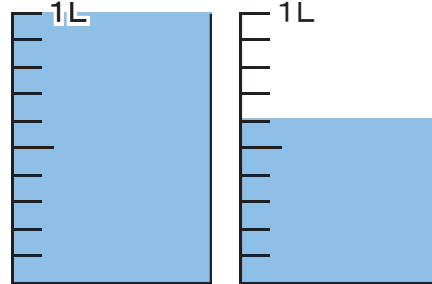


⇒ 0.1が3つで0.3 L

- ・ 1 L全部入っているマスは6つ→6 L
- ・ はしたは0.1が3つ→0.3

**合わせたら6.3 L**

②水のかさは何Lですか。



**答え 1.6 L**

0.1 Lがいくつですか。

**考え方**

- ・ 1.6 Lを1 Lと0.6 Lに分ける。
- ・ 1 Lは0.1 Lがいくつ集まったかさですか。

**10こ**

- ・ 0.6 Lは0.1 Lがいくつ集まったかさですか。

**6こ**

合わせると・・・

$10 + 6 = 16$       **答え 16こ**

1.9 Lは0.1 Lをいくつ集めた数です。

**考え方**

- ・ 1.9 Lを1 Lと0.9 Lに分ける。
- ・ 1 Lは0.1 Lが10こ分。
- ・ 0.9 Lは0.1 Lが9こ分。

合わせると・・・

$10 + 9 = 19$

**答え 19こ**